

**МИНИСТЕРСТВО НАУКИ И ВЫСШЕГО ОБРАЗОВАНИЯ
РОССИЙСКОЙ ФЕДЕРАЦИИ
ФЕДЕРАЛЬНОЕ ГОСУДАРСТВЕННОЕ БЮДЖЕТНОЕ
ОБРАЗОВАТЕЛЬНОЕ УЧРЕЖДЕНИЕ ВЫСШЕГО
ОБРАЗОВАНИЯ
«КАРАЧАЕВО-ЧЕРКЕССКИЙ ГОСУДАРСТВЕННЫЙ
УНИВЕРСИТЕТ ИМЕНИ У.Д. АЛИЕВА»**

Факультет экономики и управления

УТВЕРЖДАЮ

И. о. проректора по УР

М. Х. Чанкаев

«29» мая 2024 г., протокол № 8

Рабочая программа дисциплины

«Физика»

(наименование дисциплины)

09.01.03 ОПЕРАТОР ИНФОРМАЦИОННЫХ СИСТЕМ И РЕСУРСОВ

(шифр, название направления)

Среднее профессиональное образование

Квалификация выпускника

Оператор информационных систем и ресурсов

Форма обучения

Очная

Год начала подготовки - 2023

(по учебному плану)

Карачаевск, 2024

Рабочая программа дисциплины составлена для обучающихся очной формы обучения по профессии **09.01.03 Оператор информационных систем и ресурсов** на основании учебного плана.

Рабочая программа одобрена на заседании предметно цикловой комиссии «Информационных, естественно - научных дисциплин» от 29 мая 2024 г., протокол № 5.

Председатель ПЦК
«Информационных, естественно - научных дисциплин»



Лепшокова А. Н.

Содержание

| | |
|--|----|
| 1. Общая характеристика рабочей программы общеобразовательной дисциплины | 4 |
| 1.1. Место дисциплины в структуре основной образовательной программы | 4 |
| 1.2. Цели и планируемые результаты освоения дисциплины: | 4 |
| 1.2.1. Цели и задачи дисциплины | 4 |
| 1.2.2. Планируемые результаты освоения общеобразовательной дисциплины в соответствии с ФГОС СПО и на основе ФГОС СОО | 5 |
| 2. Структура и содержание общеобразовательной дисциплины «Физика» | 13 |
| 2.1. Объем дисциплины и виды учебной работы | 13 |
| 3. УСЛОВИЯ РЕАЛИЗАЦИИ ПРОГРАММЫ ОБЩЕОБРАЗОВАТЕЛЬНОЙ ДИСЦИПЛИНЫ «ФИЗИКА» | 21 |
| 3.2. Информационное обеспечение реализации программы | 23 |
| 3.2.1. Основные печатные и электронные издания | 23 |
| 3.2.2. Дополнительные источники | 24 |
| 4. Контроль и оценка результатов освоения учебной дисциплины | 24 |
| 5. Типовые контрольные задания или иные учебно-методические материалы, необходимые для оценивания степени сформированности компетенций в процессе освоения учебной дисциплины | 32 |
| 5.1. Задания к практическим работам | 32 |
| 5.2. Вопросы для устного опроса | 52 |
| 5.3. Вопросы к экзамену | 54 |
| 6. Требования к условиям реализации рабочей программы дисциплины | 59 |
| 6.1. Общесистемные требования | 59 |
| 6.2. Материально-техническое и учебно-методическое обеспечение дисциплины | 59 |
| 7. Особенности реализации дисциплины для инвалидов и лиц с ограниченными возможностями здоровья | 61 |

1. Общая характеристика рабочей программы общеобразовательной дисциплины

1.1. Место дисциплины в структуре основной образовательной программы

Учебная дисциплина «ОД.02.03 Физика» является дисциплиной общеобразовательного цикла образовательной программы на базе основного общего образования с получением среднего общего образования в соответствии с ФГОС по 09.01.03 Оператор информационных систем и ресурсов.

В процессе изучения дисциплины формируются компетенции: ОК-1, ОК-2, ОК-3, ОК-4, ОК-5, ОК-7.

1.2. Цели и планируемые результаты освоения дисциплины:

1.2.1. Цели и задачи дисциплины

Цели:

- овладение специфической системой физических понятий, терминологией и символикой;
- освоение основных физических теорий, законов, закономерностей;
- формирование умения решать физические задачи разных уровней сложности;
- развитие познавательных интересов, интеллектуальных и творческих способностей в процессе приобретения знаний с использованием различных источников информации и современных информационных технологий; умений формулировать и обосновывать собственную позицию по отношению к физической информации, получаемой из разных источников;

Задачи дисциплины:

- понимание физической сущности явлений, проявляющихся в рамках производственной деятельности;
- освоение способов использования физических знаний для решения практических и профессиональных задач, объяснения явлений природы, производственных и технологических процессов, принципов действия технических приборов и устройств, обеспечения безопасности производства и охраны природы;
- формирование умений решать учебно-практические задачи физического содержания с учётом профессиональной направленности;

1.2.2. Планируемые результаты освоения общеобразовательной дисциплины в соответствии с ФГОС СПО и на основе ФГОС СОО

| Код и наименование формируемых компетенций | Планируемые результаты освоения дисциплины | |
|--|--|---|
| | Общие | Дисциплинарные |
| ОК 01. Выбирать способы решения задач профессиональной деятельности применительно к различным контекстам | <p>В части трудового воспитания:</p> <ul style="list-style-type: none"> - готовность к труду, осознание ценности мастерства, трудолюбие; - готовность к активной деятельности технологической и социальной направленности, способность инициировать, планировать и самостоятельно выполнять такую деятельность; - интерес к различным сферам профессиональной деятельности, <p>Овладение универсальными учебными познавательными действиями:</p> <p>а) базовые логические действия:</p> <ul style="list-style-type: none"> - самостоятельно формулировать и актуализировать проблему, рассматривать ее всесторонне; - устанавливать существенный признак или основания для сравнения, классификации и обобщения; - определять цели деятельности, задавать параметры и критерии их достижения; - выявлять закономерности и противоречия в рассматриваемых явлениях; - вносить коррективы в деятельность, оценивать соответствие результатов целям, оценивать риски последствий деятельности; | <ul style="list-style-type: none"> - сформировать представления о роли и месте физики и астрономии в современной научной картине мира, о системообразующей роли физики в развитии естественных наук, техники и современных технологий, о вкладе российских и зарубежных ученых-физиков в развитие науки; понимание физической сущности наблюдаемых явлений микромира, макромира и мегамира; понимание роли астрономии в практической деятельности человека и дальнейшем научно-техническом развитии, роли физики в формировании кругозора и функциональной грамотности человека для решения практических задач; - сформировать умения решать расчетные задачи с явно заданной физической моделью, используя физические законы и принципы; на основе анализа условия задачи выбирать физическую модель, выделять физические величины и формулы, необходимые для ее решения, проводить расчеты и оценивать реальность полученного значения физической величины; решать качественные задачи, выстраивая логически непротиворечивую цепочку рассуждений с опорой на изученные |

| | | |
|--|--|--|
| | <p>- развивать креативное мышление при решении жизненных проблем</p> <p>б) базовые исследовательские действия:</p> <p>- владеть навыками учебно-исследовательской и проектной деятельности, навыками разрешения проблем;</p> <p>- выявлять причинно-следственные связи и актуализировать задачу, выдвигать гипотезу ее решения, находить аргументы для доказательства своих утверждений, задавать параметры и критерии решения;</p> <p>- анализировать полученные в ходе решения задачи результаты, критически оценивать их достоверность, прогнозировать изменение в новых условиях;</p> <p>- уметь переносить знания в познавательную и практическую области жизнедеятельности;</p> <p>- уметь интегрировать знания из разных предметных областей;</p> <p>- выдвигать новые идеи, предлагать оригинальные подходы и решения;</p> <p>- способность их использования в познавательной и социальной практике</p> | <p>законы, закономерности и физические явления;</p> <p>- владеть основополагающими физическими понятиями и величинами, характеризующими физические процессы (связанными с механическим движением, взаимодействием тел, механическими колебаниями и волнами; атомно-молекулярным строением вещества, тепловыми процессами; электрическим и магнитным полями, электрическим током, электромагнитными колебаниями и волнами; оптическими явлениями; квантовыми явлениями, строением атома и атомного ядра, радиоактивностью);</p> <p>владение основополагающими астрономическими понятиями, позволяющими характеризовать процессы, происходящие на звездах, в звездных системах, в межгалактической среде; движение небесных тел, эволюцию звезд и Вселенной;</p> <p>- владеть закономерностями, законами и теориями (закон всемирного тяготения, I, II и III законы Ньютона, закон сохранения механической энергии, закон сохранения импульса, принцип суперпозиции сил, принцип равноправности инерциальных систем отсчета; молекулярно-кинетическую теорию строения вещества, газовые законы, первый закон термодинамики; закон сохранения электрического заряда, закон Кулона, закон Ома для участка цепи, закон Ома для полной электрической цепи, закон</p> |
|--|--|--|

| | | |
|---|---|---|
| | | <p>Джоуля - Ленца, закон электромагнитной индукции, закон сохранения энергии, закон прямолинейного распространения света, закон отражения света, закон преломления света; закон сохранения энергии, закон сохранения импульса, закон сохранения электрического заряда, закон сохранения массового числа, постулаты Бора, закон радиоактивного распада); уверенное использование законов и закономерностей при анализе физических явлений и процессов</p> |
| <p>ОК 02. Использовать современные средства поиска, анализа и интерпретации информации, и информационные технологии для выполнения задач профессиональной деятельности</p> | <p>В области ценности научного познания:</p> <ul style="list-style-type: none"> - сформированность мировоззрения, соответствующего современному уровню развития науки и общественной практики, основанного на диалоге культур, способствующего осознанию своего места в поликультурном мире; - совершенствование языковой и читательской культуры как средства взаимодействия между людьми и познания мира; - осознание ценности научной деятельности, готовность осуществлять проектную и исследовательскую деятельность индивидуально и в группе; <p>Овладение универсальными учебными познавательными действиями:</p> <p>в) работа с информацией:</p> <ul style="list-style-type: none"> - владеть навыками получения информации из источников разных типов, самостоятельно осуществлять поиск, анализ, систематизацию и интерпретацию информации различных видов и | <ul style="list-style-type: none"> - уметь учитывать границы применения изученных физических моделей: материальная точка, инерциальная система отсчета, идеальный газ; модели строения газов, жидкостей и твердых тел, точечный электрический заряд, ядерная модель атома, нуклонная модель атомного ядра при решении физических задач - уметь формировать собственную позицию по отношению к физической информации, получаемой из разных источников, уметь использовать цифровые технологии для поиска, структурирования, интерпретации и представления учебной и научно-популярной информации; развитие умений критического анализа получаемой информации |

| | | |
|---|--|--|
| | <p>форм представления;</p> <ul style="list-style-type: none"> - создавать тексты в различных форматах с учетом назначения информации и целевой аудитории, выбирая оптимальную форму представления и визуализации; - оценивать достоверность, легитимность информации, ее соответствие правовым и морально-этическим нормам; - использовать средства информационных и коммуникационных технологий в решении когнитивных, коммуникативных и организационных задач с соблюдением требований эргономики, техники безопасности, гигиены, ресурсосбережения, правовых и этических норм, норм информационной безопасности; - владеть навыками распознавания и защиты информации, информационной безопасности личности | |
| <p>ОК 03. Планировать и реализовывать собственное профессиональное и личностное развитие, предпринимательскую деятельность в профессиональной сфере, использовать знания по финансовой грамотности в различных жизненных ситуациях</p> | <p>В области духовно-нравственного воспитания:</p> <ul style="list-style-type: none"> - сформированность нравственного сознания, этического поведения; - способность оценивать ситуацию и принимать осознанные решения, ориентируясь на морально-нравственные нормы и ценности; - осознание личного вклада в построение устойчивого будущего; - ответственное отношение к своим родителям и (или) другим членам семьи, созданию семьи на основе осознанного принятия ценностей семейной жизни в соответствии с традициями | <ul style="list-style-type: none"> - владеть основными методами научного познания, используемыми в физике: проводить прямые и косвенные измерения физических величин, выбирая оптимальный способ измерения и используя известные методы оценки погрешностей измерений, проводить исследование зависимостей физических величин с использованием прямых измерений, объяснять полученные результаты, используя физические теории, законы и понятия, и делать выводы; соблюдать правила безопасного труда при проведении исследований в рамках учебного |

народов России;

Овладение универсальными регулятивными действиями:

а) самоорганизация:

- самостоятельно осуществлять познавательную деятельность, выявлять проблемы, ставить и формулировать собственные задачи в образовательной деятельности и жизненных ситуациях;

- самостоятельно составлять план решения проблемы с учетом имеющихся ресурсов, собственных возможностей и предпочтений;

- давать оценку новым ситуациям;

способствовать формированию и проявлению широкой эрудиции в разных областях знаний, постоянно повышать свой образовательный и культурный уровень;

б) самоконтроль:

использовать приемы рефлексии для оценки ситуации, выбора верного решения;

- уметь оценивать риски и своевременно принимать решения по их снижению;

в) эмоциональный интеллект,

предполагающий сформированность:

внутренней мотивации, включающей стремление к достижению цели и успеху, оптимизм, инициативность, умение действовать, исходя из своих возможностей;

- эмпатии, включающей способность понимать эмоциональное состояние других, учитывать его при осуществлении коммуникации, способность к сочувствию и сопереживанию;

эксперимента и учебно-исследовательской деятельности с использованием цифровых измерительных устройств и лабораторного оборудования; сформированность представлений о методах получения научных астрономических знаний;

- овладеть (сформировать представления) правилами записи физических формул рельефно-точечной системы обозначений Л. Брайля (для слепых и слабовидящих обучающихся)

| | | |
|---|--|--|
| | <p>- социальных навыков, включающих способность выстраивать отношения с другими людьми, заботиться, проявлять интерес и разрешать конфликты</p> | |
| <p>ОК 04. Эффективно взаимодействовать и работать в коллективе и команде</p> | <p>- готовность и способность к образованию и саморазвитию, самостоятельности и самоопределению; - овладение навыками учебно-исследовательской, проектной и социальной деятельности; Овладение универсальными коммуникативными действиями: б) совместная деятельность: - понимать и использовать преимущества командной и индивидуальной работы; - принимать цели совместной деятельности, организовывать и координировать действия по ее достижению: составлять план действий, распределять роли с учетом мнений участников, обсуждать результаты совместной работы; - координировать и выполнять работу в условиях реального, виртуального и комбинированного взаимодействия; - осуществлять позитивное стратегическое поведение в различных ситуациях, проявлять творчество и воображение, быть инициативным Овладение универсальными регулятивными действиями: г) принятие себя и других людей: - принимать мотивы и аргументы других людей при анализе результатов деятельности; - признавать свое право и право других людей на ошибки;</p> | <p>- овладеть умениями работать в группе с выполнением различных социальных ролей, планировать работу группы, рационально распределять деятельность в нестандартных ситуациях, адекватно оценивать вклад каждого из участников группы в решение рассматриваемой проблемы</p> |

| | | |
|--|---|--|
| | <p>- развивать способность понимать мир с позиции другого человека</p> | |
| <p>ОК 05. Осуществлять устную и письменную коммуникацию на государственном языке Российской Федерации с учетом особенностей социального и культурного контекста</p> | <p>В области эстетического воспитания:</p> <ul style="list-style-type: none"> - эстетическое отношение к миру, включая эстетику научного творчества, присущего физической науке; - способность воспринимать различные виды искусства, традиции и творчество своего и других народов, ощущать эмоциональное воздействие искусства; - убежденность в значимости для личности и общества отечественного и мирового искусства, этнических культурных традиций и народного творчества; - готовность к самовыражению в разных видах искусства, стремление проявлять качества творческой личности; <p>Овладение универсальными коммуникативными действиями:</p> <p>а) общение:</p> <ul style="list-style-type: none"> - осуществлять коммуникации во всех сферах жизни; - распознавать невербальные средства общения, понимать значение социальных знаков, распознавать предпосылки конфликтных ситуаций и смягчать конфликты; - развернуто и логично излагать свою точку зрения с использованием языковых средств | <ul style="list-style-type: none"> - уметь распознавать физические явления (процессы) и объяснять их на основе изученных законов: равномерное и равноускоренное прямолинейное движение, свободное падение тел, движение по окружности, инерция, взаимодействие тел, колебательное движение, резонанс, волновое движение; диффузия, броуновское движение, строение жидкостей и твердых тел, изменение объема тел при нагревании (охлаждении), тепловое равновесие, испарение, конденсация, плавление, кристаллизация, кипение, влажность воздуха, связь средней кинетической энергии теплового движения молекул с абсолютной температурой, повышение давления газа при его нагревании в закрытом сосуде, связь между параметрами состояния газа в изопроцессах; электризация тел, взаимодействие зарядов, нагревание проводника с током, взаимодействие магнитов, электромагнитная индукция, действие магнитного поля на проводник с током и движущийся заряд, электромагнитные колебания и волны, прямолинейное распространение света, отражение, преломление, интерференция, дифракция и поляризация света, дисперсия света; фотоэлектрический эффект, световое давление, возникновение линейчатого спектра атома водорода, естественная и искусственная |

| | | |
|--|--|---|
| <p>ОК 07. Содействовать сохранению окружающей среды, ресурсосбережению, применять знания об изменении климата, принципы бережливого производства, эффективно действовать в чрезвычайных ситуациях</p> | <p>В области экологического воспитания:</p> <ul style="list-style-type: none"> - сформированность экологической культуры, понимание влияния социально-экономических процессов на состояние природной и социальной среды, осознание глобального характера экологических проблем; - планирование и осуществление действий в окружающей среде на основе знания целей устойчивого развития человечества; активное неприятие действий, приносящих вред окружающей среде; - умение прогнозировать неблагоприятные экологические последствия предпринимаемых действий, предотвращать их; - расширение опыта деятельности экологической направленности на основе знаний по физике | <p>радиоактивность</p> <ul style="list-style-type: none"> - сформировать умения применять полученные знания для объяснения условий протекания физических явлений в природе и для принятия практических решений в повседневной жизни для обеспечения безопасности при обращении с бытовыми приборами и техническими устройствами, сохранения здоровья и соблюдения норм экологического поведения в окружающей среде; понимание необходимости применения достижений физики и технологий для рационального природопользования |
|--|--|---|

2. Структура и содержание общеобразовательной дисциплины «Физика»

2.1. Объем дисциплины и виды учебной работы

Трудоемкость дисциплины «Физика» на базовом уровне составляет 108 часов, из которых 88 часа – базовый модуль.

| Вид учебной работы | Объем в часах |
|---|----------------------|
| Объем образовательной программы дисциплины | 144 |
| в т.ч. | |
| Основное содержание | 117 |
| в т. ч.: | |
| теоретическое обучение | 39 |
| лабораторные занятия | 39 |
| практические занятия | 39 |
| Самостоятельная работа | 9 |
| Контроль | 18 |

2.2. Тематический план и содержание дисциплины

| Наименование разделов и тем | Содержание учебного материала, лабораторные и практические работы, самостоятельная работа обучающихся | Объем часов | Формируемые общие и профессиональные компетенции |
|--|---|-------------|--|
| 1 | 2 | 3 | 4 |
| Введение. | Содержание учебного материала: | 2 | ОК 03 ОК 05 |
| Физика и методы научного познания | Физика — фундаментальная наука о природе. Естественно-научный метод познания, его возможности и границы применимости. Эксперимент и теория в процессе познания природы. Моделирование физических явлений и процессов. Роль эксперимента и теории в процессе познания природы. Физическая величина. Физические законы. Границы применимости физических законов и теорий. Принцип соответствия. Понятие о физической картине мира. Погрешности измерений физических величин | | |
| Раздел 1. Механика | | 12 | ОК 01 |
| Тема 1.1 | Содержание учебного материала: | 4 | ОК 02 ОК 04 ОК 05 ОК 07 |
| Основы кинематики | Механическое движение и его виды. Материальная точка. Скалярные и векторные физические величины. Относительность механического движения. Система отсчета. Принцип относительности Галилея. Траектория. Путь. Перемещение. Равномерное прямолинейное движение. Скорость. Уравнение движения. Мгновенная и средняя скорости. Ускорение. Прямолинейное движение с постоянным ускорением. Движение с постоянным ускорением свободного падения. Равномерное движение точки по окружности, угловая скорость. Центростремительное ускорение. Кинематика абсолютно твердого тела | | |
| Тема 1.2 | Содержание учебного материала: | 4 | |
| Основы динамики | Основная задача динамики. Сила. Масса. Законы механики Ньютона. Силы в природе. Сила тяжести и сила всемирного тяготения. Закон всемирного тяготения. Первая космическая скорость. Движение планет и малых тел Солнечной системы. Вес. Невесомость. Силы упругости. Силы трения | | |

| | | | |
|---|---|----|---|
| <p>Тема 1.3</p> <p>Законы сохранения в механике</p> | <p>Содержание учебного материала:</p> <p>Импульс тела. Импульс силы. Закон сохранения импульса. Реактивное движение. Механическая работа и мощность. Кинетическая энергия. Потенциальная энергия. Закон сохранения механической энергии. Работа силы тяжести и силы упругости. Применение законов сохранения. Использование законов механики для объяснения движения небесных тел и для развития космических исследований, границы применимости классической механики</p> | 4 | |
| <p>Раздел 2. Молекулярная физика и термодинамика</p> | | 23 | ОК 01 |
| <p>Тема 2.1</p> <p>Основы молекулярно-кинетической теории</p> | <p>Содержание учебного материала:</p> <p>Основные положения молекулярно-кинетической теории. Размеры и масса молекул и атомов. Броуновское движение. Строение газообразных, жидких и твердых тел. Идеальный газ. Давление газа. Основное уравнение молекулярно-кинетической теории газов. Температура и ее измерение. Абсолютный нуль температуры. Термодинамическая шкала температуры. Температура звезд. Скорости движения молекул и их измерение. Уравнение состояния идеального газа. Изопроцессы и их графики. Газовые законы</p> | 2 | ОК 02 ОК 03 ОК 04 ОК 05 ОК 07 |
| | <p>Лабораторные работы:</p> <p>1. Изучение одного из изопроцессов</p> | 8 | |
| <p>Тема 2.2</p> <p>Основы термодинамики</p> | <p>Содержание учебного материала:</p> <p>Внутренняя энергия. Работа и теплопередача. Количество теплоты. Уравнение теплового баланса. Первоначало термодинамики. Адиабатный процесс. Второе начало термодинамики. Тепловые двигатели. КПД теплового двигателя. Охрана природы</p> | 2 | |
| <p>Тема 2.3</p> <p>Агрегатные состояния вещества и фазовые</p> | <p>Содержание учебного материала:</p> <p>Испарение и конденсация. Насыщенный пар и его свойства. Относительная влажность воздуха. Приборы для определения влажности воздуха. Кипение. Зависимость температуры кипения от давления. Характеристика жидкого состояния вещества. Ближний порядок. Поверхностное натяжение. Смачивание. Капиллярные явления.</p> | 1 | |

| | | | |
|--|--|-----------|-------|
| переходы | Характеристика твердого состояния вещества. Кристаллические и аморфные тела | | |
| | Лабораторные работы: 2. Определение влажности воздуха | 8 | |
| Контрольная работа №1 «Молекулярная физика и термодинамика» | | 2 | |
| Раздел 3. Электродинамика | | 33 | ОК 01 |
| Тема 3.1 | Содержание учебного материала: | 4 | ОК 02 |
| Электрическое поле | Электрические заряды. Элементарный электрический заряд. Закон сохранения заряда. Закон Кулона. Электрическое поле. Напряженность электрического поля. Принцип суперпозиции полей. Проводники в электрическом поле. Диэлектрики в электрическом поле. Поляризация диэлектриков. Потенциал. Разность потенциалов. Эквипотенциальные поверхности. Связь между напряженностью и разностью потенциалов электрического поля. Емкость. Конденсаторы. Энергия заряженного конденсатора. Применение конденсаторов | | ОК 03 |
| | | | ОК 04 |
| | | | ОК 05 |
| | | | ОК 07 |
| Тема 3.2 | Содержание учебного материала: | 5 | |
| Законы постоянного тока | Условия, необходимые для возникновения и поддержания электрического тока. Сила тока. Электрическое сопротивление. Закон Ома для участка цепи. Параллельное и последовательное соединение проводников. Работа и мощность постоянного тока. Тепловое действие тока Закон Джоуля—Ленца. Электродвижущая сила источника тока. Закон Ома для полной цепи | | |
| | Лабораторные работы: | 5 | |
| | 3. Изучение законов последовательного и параллельного соединений проводников. | | |
| Тема 3.3 | Содержание учебного материала: | 2 | |
| Электрический ток в различных средах | Электрический ток в металлах, в электролитах, газах, в вакууме. Электролиз. Закон электролиза Фарадея. Виды газовых разрядов. Термоэлектронная эмиссия. Плазма. Электрический ток в полупроводниках. Собственная и примесная проводимости. P-n переход. Полупроводниковые приборы. Применение полупроводников | | |

| | | | |
|---|---|----------|----------------------------------|
| Тема 3.4 Магнитное поле | Содержание учебного материала: | 4 | |
| | Вектор индукции магнитного поля. Взаимодействие токов. Сила Ампера. Применение силы Ампера. Магнитный поток. Действие магнитного поля на движущийся заряд. Сила Лоренца. Применение силы Лоренца. Магнитные свойства вещества. Солнечная активность и её влияние на Землю. Магнитные бури | | |
| Тема 3.5 Электромагнитная индукция | Содержание учебного материала: | 4 | |
| | Явление электромагнитной индукции. Закон электромагнитной индукции. Правило Ленца. Вихревое электрическое поле. ЭДС индукции в движущихся проводниках. Явление самоиндукции. Индуктивность. Энергия магнитного поля тока. Электромагнитное поле | | |
| | Лабораторные работы: 5. Изучение явления электромагнитной индукции | 7 | |
| Контрольная работа №2 «Электрическое поле. Законы постоянного тока. Магнитное поле. Электромагнитная индукция» | | 2 | |
| Раздел 4. Колебания и волны | | 8 | ОК 01 |
| Тема 4.1 Механические колебания и волны | Содержание учебного материала: | 4 | ОК 02 ОК 04 ОК 05 ОК 07 |
| | Гармонические колебания. Свободные механические колебания. Превращение энергии при колебательном движении. Математический маятник. Пружинный маятник. Вынужденные механические колебания. Резонанс. Поперечные и продольные волны. Характеристики волны. Звуковые волны. Ультразвук и его применение | | |
| Тема 4.2 | Содержание учебного материала: | 4 | |

| | | | |
|--|---|-----------|-------------------------|
| <p>Электромагнитные колебания и волны</p> | <p>Свободные электромагнитные колебания. Превращение энергии в колебательном контуре. Период свободных электрических колебаний. Формула Томсона. Затухающие электромагнитные колебания. Вынужденные электрические колебания. Переменный ток. Резонанс в электрической цепи. Генератор переменного тока. Трансформаторы. Получение, передача и распределение электроэнергии.</p> <p>Электромагнитные волны. Свойства электромагнитных волн. Открытый колебательный контур. опыты Г. Герца. Изобретение радио А.С. Поповым. Понятие о радиосвязи. Принцип радиосвязи. Применение электромагнитных волн</p> | | |
| Раздел 5. Оптика | | 20 | ОК 01 |
| <p>Тема 5.1 Природа света</p> | <p>Содержание учебного материала:</p> <p>Точечный источник света. Скорость распространения света. Законы отражения и преломления света. Принцип Гюйгенса. Солнечные и лунные затмения. Полное отражение. Линзы. Построение изображения в линзах. Формула тонкой линзы. Увеличение линзы. Глаз как оптическая система. Оптические приборы. Телескопы</p> <p>Лабораторные работы:</p> <p>6. Определение показателя преломления стекла</p> | 2 | ОК 02 ОК 04 ОК 05 |
| <p>Тема 5.2 Волновые свойства света</p> | <p>Содержание учебного материала:</p> <p>Интерференция света. Когерентность световых лучей. Интерференция в тонких пленках. Кольца Ньютона. Использование интерференции в науке и технике. Дифракция света. Дифракция на щели в параллельных лучах. Дифракционная решетка. Поляризация поперечных волн. Поляризация света. Поляроиды. Дисперсия света. Виды излучений. Виды спектров. Спектры испускания. Спектры поглощения. Спектральный анализ. Спектральные классы звезд. Ультрафиолетовое излучение. Инфракрасное излучение. Рентгеновские лучи. Их природа и свойства. Шкала электромагнитных излучений</p> <p>Лабораторные работы:</p> <p>7. Определение длины световой волны с помощью дифракционной решетки</p> <p>Контрольная работа № 3 «Колебания и волны. Оптика»</p> | 4 | |
| | | 5 | |
| | | 2 | |

| | | | |
|---|--|-----------|----------------------------------|
| Тема 5.3 Специальная теория относительности | Движение со скоростью света. Постулаты теории относительности и следствия из них. Инвариантность модуля скорости света в вакууме. Энергия покоя. Связь массы и энергии свободной частицы. Элементы релятивистской динамики | 2 | |
| Раздел 6. Квантовая физика | | 12 | ОК 01 |
| Тема 6.1 Квантовая оптика | Содержание учебного материала: Квантовая гипотеза Планка. Тепловое излучение. Корпускулярно-волновой дуализм. Фотоны. Гипотеза де Бройля о волновых свойствах частиц. Давление света. Химическое действие света. Опыты П.Н. Лебедева и Н.И. Вавилова. Фотоэффект. Уравнение Эйнштейна для фотоэффекта. Применение фотоэффекта | 4 | ОК 02 ОК 04 ОК 05 ОК 07 |
| Тема 6.2 Физика атома и атомного ядра | Содержание учебного материала: Развитие взглядов на строение вещества. Модели строения атомного ядра. Ядерная модель атома. Опыты Э. Резерфорда. Модель атома водорода по Н. Бору. Квантовые постулаты Бора. Лазеры. Радиоактивность. Закон радиоактивного распада. Радиоактивные превращения. Способы наблюдения и регистрации заряженных частиц. Строение атомного ядра. Дефект массы, энергия связи и устойчивость атомных ядер. Ядерные реакции. Ядерная энергетика. Энергетический выход ядерных реакций. Искусственная радиоактивность. Деление тяжелых ядер. Цепная ядерная реакция. Управляемая цепная реакция. Ядерный реактор. Термоядерный синтез. Энергия звезд. Получение радиоактивных изотопов и их применение. Биологическое действие радиоактивных излучений. | 6 | |
| | Самостоятельная работа. Элементарные частицы | 9 | |
| | Контрольная работа № 4 «Квантовая физика» | 2 | |
| Раздел 7. Строение Вселенной | | 7 | ОК 01 |
| Тема 7.1 Строение Солнечной системы | Содержание учебного материала: Солнечная система: планеты и малые тела, система Земля—Луна | 7 | ОК 02 ОК 03 |

| | | | |
|--|---|------------|----------------|
| Тема 7.2 Эволюция Вселенной | Содержание учебного материала: | 2 | ОК 04 |
| | Строение и эволюция Солнца и звёзд. Классификация звёзд. Звёзды и источники их энергии. Галактика. Современные представления о строении и эволюции Вселенной | | ОК 05 ОК 07 |
| | | | |
| контроль | | 18 | |
| Промежуточная аттестация: экзамен | | | |
| Всего: | | 144 | |

3. УСЛОВИЯ РЕАЛИЗАЦИИ ПРОГРАММЫ ОБЩЕОБРАЗОВАТЕЛЬНОЙ ДИСЦИПЛИНЫ «ФИЗИКА»

3.1. Требования к минимальному материально-техническому обеспечению

Для реализации программы дисциплины должны быть предусмотрены следующие специальные помещения: учебный кабинет физики.

Помещение № - 16. Лаборатория физики

столы – 14 шт.,

стулья - 28 шт.,

стол и стул преподавателя – 1 шт.,

трибуна – 1 шт.,

доска меловая – 1 шт.,

Персональный компьютер с подключением к сети «Интернет», проектор, интерактивная доска– 1 шт, притер, учебно-наглядные пособия - в электронном виде.

Оборудование лаборатории физики:

1. Цифровая лаборатория по физике для учителя;
2. Цифровая лаборатория по физике для ученика;
3. Весы технические с разновесами;
4. Комплект для лабораторного практикума по оптике;
5. Комплект для лабораторного практикума по механике;
6. Комплект для лабораторного практикума по молекулярной физике и термодинамики;
7. Комплект для лабораторного практикума по электричеству (с генератором);
8. Комплект для изучения возобновляемых источников энергии (солнечной, ветровой энергии, био-, механической и термоэлектрической энергетики);
9. Амперметр лабораторный;
10. Вольтметр лабораторный;
11. Колориметр с набором калориметрических тел;
12. Термометр лабораторный;
13. Комплект для изучения основ механики, пневматики и возобновляемых источников энергии;
14. Барометр-анероид;
15. Блок питания регулируемый;
16. Веб-камера на подвижном штативе;
17. Видеокамера для работы с оптическими приборами;
18. Генератор звуковой;
19. Гигрометр (психрометр);
20. Груз наборный;
21. Динамометр демонстрационный;
22. Комплект посуды демонстрационной с принадлежностями;
23. Манометр жидкостной демонстрационный;
24. Метр демонстрационный;
25. Микроскоп демонстрационный;
26. Насос вакуумный Комовского;

27. Столик подъемный;
28. Штатив демонстрационный физический;
29. Электроплитка;
30. Набор демонстрационный по механическим явлениям;
31. Набор демонстрационный по динамике вращательного движения;
32. Набор демонстрационный по механическим колебаниям;
33. Набор демонстрационный волновых явлений;
34. Ведерко Архимеда;
35. Маятник Максвелла;
36. Набор тел равного объема;
37. Набор тел равной массы;
38. Прибор для демонстрации атмосферного давления;
39. Призма, наклоняющаяся с отвесом;
40. Рычаг демонстрационный;
41. Сосуды сообщающиеся;
42. стакан отливной демонстрационный;
43. Трубка Ньютона;
44. Шар Паскаля;
45. Набор демонстрационный по молекулярной физике и тепловым явлениям;
46. Набор демонстрационный по газовым законам;
47. Набор капилляров;
48. Трубка для демонстрации конвекции в жидкости;
49. Цилиндры свинцовые со стругом;
50. Шар с кольцом;
51. Высоковольтный источник;
52. Генератор Ван-де-Граафа;
53. Дозиметр;
54. Камертоны на резонансных ящиках;
55. Комплект приборов и принадлежностей для демонстрации свойств электромагнитных волн;
56. Комплект приборов для изучения принципов радиоприема и радиопередачи;
57. Комплект проводов;
58. Магнит дугообразный;
59. Магнит полосовой демонстрационный;
60. Машина электрофорная;
61. Маятник электростатический;
62. Набор по изучению магнитного поля Земли;
63. Набор демонстрационный по магнитному полю кольцевых токов;
64. Набор демонстрационный по полупроводникам;
65. Набор демонстрационный по постоянному току;
66. Набор демонстрационный по электрическому току в вакууме;
67. Набор демонстрационный по электродинамике;
68. Набор для демонстрации магнитных полей;
69. Набор для демонстрации электрических полей;
70. Трансформатор учебный;

71. Палочка стеклянная;
72. Палочка эбонитовая;
73. Прибор Ленца;
74. Стрелки магнитные на штативах;
75. Султан электростатический;
76. Штативы изолирующие;
77. Электромагнит разборный;
78. Набор демонстрационный по геометрической оптике;
79. Набор демонстрационный по волновой оптике;
80. Спектроскоп двухтрубный;
81. Набор спектральных трубок с источником питания;
82. Установка для изучения фотоэффекта;
83. Набор демонстрационный по постоянной Планка;
84. Комплект наглядных пособий для постоянного использования;
85. Комплект портретов для оформления кабинета;
86. Комплект демонстрационных учебных таблиц.

Лицензионное программное обеспечение:

- Microsoft Windows (Лицензия № 60290784), бессрочная
- Microsoft Office (Лицензия № 60127446), бессрочная
- ABBY Fine Reader (лицензия № FCRP-1100-1002-3937), бессрочная
- Calculate Linux (внесён в ЕРПП Приказом Минкомсвязи №665 от 30.11.2018-2020), бессрочная
- Google G Suite for Education (IC: 01i1p5u8), бессрочная
- Kaspersky Endpoint Security (Лицензия № 1CE2-230131-040105-990-2679), с 31.01.2023 по 03.03.2025 г.

3.2. Информационное обеспечение реализации программы

3.2.1. Основные печатные и электронные издания

1. Васильев, А. А. Физика : учебное пособие для среднего профессионального образования / А. А. Васильев, В. Е. Федоров, Л. Д. Храмов. — 2-е изд., испр. и доп. — Москва : Издательство Юрайт, 2023. — 211 с. — (Профессиональное образование). — ISBN 978-5-534-05702-7. — Текст : электронный // Образовательная платформа Юрайт [сайт]. — URL: <https://urait.ru/bcode/514208> (дата обращения: 30.10.2023).
2. Васильев, А. А. Физика. Базовый уровень: 10—11 классы : учебник для среднего общего образования / А. А. Васильев, В. Е. Федоров, Л. Д. Храмов. — 2-е изд., испр. и доп. — Москва : Издательство Юрайт, 2023. — 211 с. — (Общеобразовательный цикл). — ISBN 978-5-534-16086-4. — Текст : электронный // Образовательная платформа Юрайт [сайт]. — URL: <https://urait.ru/bcode/530393> (дата обращения: 30.10.2023).
3. Родионов, В. Н. Физика для колледжей : учебное пособие для среднего профессионального образования / В. Н. Родионов. — Москва : Издательство Юрайт, 2023. — 202 с. — (Профессиональное образование). — ISBN 978-5-534-10835-4. — Текст : электронный // Образовательная платформа Юрайт [сайт]. — URL:

<https://urait.ru/bcode/517346> (дата обращения: 30.10.2023).

3.2.2. Дополнительные источники

4. Родионов, В. Н. Физика. Углубленный уровень: 10—11 классы : учебник для среднего общего образования / В. Н. Родионов. — Москва : Издательство Юрайт, 2023. — 201 с. — (Общеобразовательный цикл). — ISBN 978-5-534-16087-1. — Текст : электронный // Образовательная платформа Юрайт [сайт]. — URL: <https://urait.ru/bcode/530394> (дата обращения: 30.10.2023).

5. Бордовский, Г. А. Физика в 2 т. Том 1 : учебное пособие для среднего профессионального образования / Г. А. Бордовский, Э. В. Бурсиан. — 2-е изд., испр. и доп. — Москва : Издательство Юрайт, 2023. — 242 с. — (Профессиональное образование). — ISBN 978-5-534-09574-6. — Текст : электронный // Образовательная платформа Юрайт [сайт]. — URL: <https://urait.ru/bcode/515438> (дата обращения: 30.10.2023).

6. Горлач, В. В. Физика. Самостоятельная работа студента : учебное пособие для среднего профессионального образования / В. В. Горлач, Н. А. Иванов, М. В. Пластинина. — 2-е изд., испр. и доп. — Москва : Издательство Юрайт, 2023. — 168 с. — (Профессиональное образование). — ISBN 978-5-9916-9834-4. — Текст : электронный // Образовательная платформа Юрайт [сайт]. — URL: <https://urait.ru/bcode/513708> (дата обращения: 30.10.2023).

4. Контроль и оценка результатов освоения учебной дисциплины

| Код и наименование формируемых компетенций | Раздел/Тема | Тип оценочных мероприятий |
|--|---|---|
| ОК 01. Выбирать способы решения задач профессиональной деятельности применительно к различным контекстам | Раздел 1. Темы 1.1., 1.2, 1.3 Раздел 2. Темы 2.1., 2.2., 2.3. Раздел 3. Темы 3.1., 3.2., 3.3., 3.4., 3.5. Раздел 4. Темы 4.1., 4.2. Раздел 5. Темы 5.1., 5.2., 5.3. Раздел 6. Темы 6.1., 6.2. Раздел 7. Темы 7.1, 7.2 | - устный опрос; - фронтальный опрос; - оценка контрольных работ; - наблюдение за ходом выполнения лабораторных работ; |
| ОК 02. Использовать современные средства поиска, анализа и интерпретации информации и информационные технологии для выполнения задач профессиональной деятельности | Раздел 1. Темы 1.1., 1.2, 1.3 Раздел 2. Темы 2.1., 2.2., 2.3. Раздел 3. Темы 3.1., 3.2., 3.3., 3.4., 3.5. Раздел 4. Темы 4.1., 4.2. Раздел 5. Темы 5.1., 5.2., 5.3. Раздел 6. Темы 6.1., 6.2. Раздел 7. Темы 7.1, 7.2 | - оценка выполнения лабораторных работ; - оценка практических работ (решения качественных, расчетных задач); - оценка тестовых заданий; |
| ОК 03. Планировать и реализовывать собственное профессиональное и | Раздел 1. Темы 1.1., 1.2, 1.3 Раздел 2. Темы 2.1., 2.2., 2.3. Раздел 3. Темы 3.1., 3.2., 3.3., | - наблюдение за ходом выполнения индивидуальных |

| | | |
|--|---|--|
| личностное развитие, предпринимательскую деятельность в профессиональной сфере, использовать знания по финансовой грамотности в различных жизненных ситуациях | 3.4., 3.5. Раздел 7. Темы 7.1, 7.2 | проектов и оценка выполненных проектов; - оценка выполнения домашних самостоятельных работ; - наблюдение и оценка решения кейс-задач; - наблюдение и оценка деловой игры; |
| ОК 04. Эффективно взаимодействовать и работать в коллективе и команде | Раздел 1. Темы 1.1., 1.2, 1.3 Раздел 2. Темы 2.1., 2.2., 2.3. Раздел 3. Темы 3.1., 3.2., 3.3., 3.4., 3.5. Раздел 4. Темы 4.1., 4.2. Раздел 5. Темы 5.1., 5.2., 5.3. Раздел 6. Темы 6.1., 6.2. Раздел 7. Темы 7.1, 7.2 | - работа в составе комиссии по инвентаризации оборудования и реактивов в местах их хранения; - Экзамен |
| ОК 05. Осуществлять устную и письменную коммуникацию на государственном языке Российской Федерации с учетом особенностей социального и культурного контекста | Раздел 1. Темы 1.1., 1.2, 1.3 Раздел 2. Темы 2.1., 2.2., 2.3. Раздел 3. Темы 3.1., 3.2., 3.3., 3.4., 3.5. Раздел 4. Темы 4.1., 4.2. Раздел 5. Темы 5.1., 5.2., 5.3. Раздел 6. Темы 6.1., 6.2. Раздел 7. Темы 7.1, 7.2 | |
| ОК 07. Содействовать сохранению окружающей среды, ресурсосбережению, применять знания об изменении климата, принципы бережливого производства, эффективно действовать в чрезвычайных ситуациях | Раздел 1. Темы 1.1., 1.2, 1.3 Раздел 2. Темы 2.1., 2.2., 2.3. Раздел 3. Темы 3.1., 3.2., 3.3., 3.4., 3.5. Раздел 4. Темы 4.1., 4.2. Раздел 6. Темы 6.1., 6.2. Раздел 7. Темы 7.1, 7.2 | |

| Код и наименование формируемых компетенций | Результаты обучения | Критерии оценки | Методы оценки |
|--|---|--|-----------------------------------|
| ОК 01 ОК 02 ОК 03 ОК 04 ОК 05 | ЗНАНИЯ: • смысл понятий: физическое явление, гипотеза, закон, теория, вещество, взаимодействие, | Оценка «5» - «отлично» ставится, если обучающийся полно излагает материал (отвечает на вопрос), дает правильное определение основных понятий; обнаруживает | Оценка результатов устного опроса |

| | | | |
|--------------|---|---|--|
| <p>ОК 07</p> | <p>электромагнитное поле, волна, фотон, атом, атомное ядро, ионизирующие излучения;</p> <ul style="list-style-type: none"> • смысл физических величин: скорость, ускорение, масса, сила, импульс, работа, механическая энергия, внутренняя энергия, абсолютная температура, средняя кинетическая энергия частиц вещества, количество теплоты, элементарный электрический заряд; • смысл физических законов классической механики, всемирного тяготения, сохранения энергии, импульса и электрического заряда, термодинамики, электромагнитной индукции, фотоэффекта; • вклад российских и зарубежных ученых, оказавших наибольшее влияние на развитие физики; <p>УМЕНИЯ:</p> <ul style="list-style-type: none"> • проводить наблюдения, планировать и выполнять эксперименты, • выдвигать гипотезы и строить модели, • применять полученные знания по физике для объяснения разнообразных физических явлений и свойств веществ; • практически использовать физические знания; • оценивать достоверность естественно-научной информации; • использовать приобретенные знания и | <p>понимание материала, может обосновать свои суждения, применить знания на практике, привести необходимые примеры не только из учебника, но и самостоятельно составленные; излагает материал последовательно и правильно с точки зрения норм литературного языка.</p> <p>Оценка «4» - «хорошо» ставится, если обучающийся дает ответ, удовлетворяющий тем же требованиям, что и для оценки «отлично», но допускает 1–2 ошибки, которые сам же исправляет, и 1–2 недочетов последовательности и языковом оформлении излагаемого.</p> <p>Оценка «3» - «удовлетворительно» ставится, если обучающийся обнаруживает знание и понимание основных положений данной темы, но излагает материал неполно и допускает неточности в определении понятий или формулировке правил; не умеет достаточно глубоко и доказательно обосновать свои суждения и привести свои примеры; излагает материал непоследовательно и допускает ошибки в языковом оформлении излагаемого.</p> <p>Оценка «2» - «неудовлетворительно» ставится, если обучающийся обнаруживает незнание большей части соответствующего вопроса допускает ошибки в формулировке определений и правил, искажающие их смысл, беспорядочно и неуверенно излагает материал.</p> <p>Оценка «2» отмечает такие недостатки в подготовке, которые</p> | |
|--------------|---|---|--|

| | | | |
|--|--|--|--|
| | <p>умения для решения практических задач повседневной жизни, обеспечения безопасности собственной жизни, рационального природопользования и охраны окружающей среды.</p> <ul style="list-style-type: none"> описывать и объяснять физические явления и свойства тел: свойства газов, жидкостей и твердых тел; электромагнитную индукцию, распространение электромагнитных волн; волновые свойства света; излучение и поглощение света атомом; фотоэффект; отличать гипотезы от научных теорий; делать выводы на основе экспериментальных данных; приводить примеры, показывающие, что: наблюдения и эксперимент являются основой для выдвижения гипотез и теорий, позволяют проверить истинность теоретических выводов; физическая теория дает возможность объяснять известные явления природы и научные факты, предсказывать еще неизвестные явления; приводить примеры практического использования физических знаний: законов механики, термодинамики и электродинамики в энергетике; различных видов электромагнитных излучений для развития | <p>являются серьезным препятствием к успешному овладению последующим материалом.</p> <p>«5» - 85-100% верных ответов «4» - 69-84% верных ответов «3» - 51-68% верных ответов «2» - 50% и менее</p> <p>Оценка «5» - «отлично» выставляется обучающемуся, если демонстрируются всестороннее, систематическое и глубокое знание учебного программного материала, самостоятельно выполнивший все предусмотренные программой задания, глубокоусвоивший основную и дополнительную литературу, рекомендованную программой,</p> <p>активный работавший на практических, семинарских, лабораторных занятиях, разбирающийся в основных научных концепциях по изучаемой дисциплине, проявивший творческие способности и научный подход в понимании и изложении учебного программного материала, ответ отличается богатством и точностью использованных терминов, материал излагается последовательно и логично.</p> <p>Оценка «4» - «хорошо» выставляется обучающемуся, если демонстрируются достаточно полное знание учебно-программного материала, не допускающий в ответе</p> | <p>Оценка результата в тестировании</p> <p>Оценка результатов дифференцированного зачета</p> |
|--|--|--|--|

| | | | |
|--|--|---|--|
| | <p>радио и телекоммуникаций, квантовой физики в создании ядерной энергетики, лазеров;</p> <ul style="list-style-type: none"> воспринимать и на основе полученных знаний самостоятельно оценивать информацию, содержащуюся в сообщениях СМИ, Интернете, научно-популярных статьях. применять полученные знания для решения физических задач; определять характер физического процесса по графику, таблице, формуле | <p>существенных неточностей, самостоятельно выполнивший все предусмотренные программой задания, усвоивший основную литературу, рекомендованную программой, активно работавший на практических, семинарских, лабораторных занятиях, показавший систематический характер знаний по дисциплине, достаточный для дальнейшей учебы, а также способность к их самостоятельному пополнению.</p> <p>Оценка «3» - «удовлетворительно»</p> <p>выставляется обучающемуся, если демонстрируются знания основного учебно-программного материала в объеме, необходимом для дальнейшей учебы и предстоящей работы по профессии, не отличавшийся активностью на практических (семинарских) и лабораторных занятиях, самостоятельно выполнивший основные предусмотренные программой задания, однако допустивший погрешности при их выполнении и в ответе на экзамене, но обладающий необходимыми знаниями для устранения под руководством преподавателя наиболее существенных погрешностей.</p> <p>Оценка «2» - «неудовлетворительно»</p> <p>выставляется обучающемуся, если обнаруживаются пробелы в знаниях или отсутствие знаний по значительной части основного учебно-программного материала, не выполнившего самостоятельно предусмотренные программой основные задания, допустившему принципиальные ошибки в выполнении предусмотренных</p> | <p>Оценка результатов выполнения практической работы</p> |
|--|--|---|--|

| | | | |
|--|--|--|------------------------------|
| | | <p>программой заданий, не отработавшему основные практические, семинарские, лабораторные занятия, допускающему существенные ошибки при ответе, и который не может продолжить обучение или приступить к профессиональной деятельности без дополнительных занятий по соответствующей дисциплине.</p> <p>Оценка «5» - «отлично» выставляется, если обучающийся имеет глубокие знания учебного материала по теме практической работы, показывает усвоение взаимосвязи основных понятий, используемых в работе, смог ответить на все уточняющие и дополнительные вопросы. Обучающийся демонстрирует знания теоретического и практического материала по теме практической работы, определяет взаимосвязи между показателями задачи, даёт правильный алгоритм решения, определяет междисциплинарные связи по условию задания.</p> <p>Оценка «4» - «хорошо» выставляется, если обучающийся показал знание учебного материала, усвоил основную литературу, смог ответить почти полно на все заданные дополнительные и уточняющие вопросы. Обучающийся демонстрирует знания теоретического и практического материала по теме практической работы, допуская незначительные неточности при решении задач, имея неполное понимание междисциплинарных связей при правильном выборе алгоритма</p> | <p>Оценка результата</p> |
|--|--|--|------------------------------|

| | | | |
|--|--|--|--|
| | | <p>решения задания. Оценка «3» -«удовлетворительно» выставляется, если обучающийся в целом освоил материал практической работы, ответил не на все уточняющие и дополнительные вопросы. Обучающийся затрудняется с правильной оценкой предложенной задачи, даёт неполный ответ, требующий наводящих вопросов преподавателя, выбор алгоритма решения задачи возможен при наводящих вопросах преподавателя. Оценка«2» - «неудовлетворительно» выставляется обучающемуся, если он имеет существенные пробелы в знаниях основного учебного материала практической работы, который полностью не раскрыл содержание вопросов, не смог ответить на уточняющие и дополнительные вопросы. Обучающийся даёт неверную оценку ситуации, неправильно выбирает алгоритм действий.</p> <p>Оценка «5» - «отлично» выставляется, если дается комплексная оценка предложенной ситуации; демонстрируются глубокие знания теоретического материала и умение их применять; последовательное, правильное выполнение всех заданий; умение обоснованно излагать свои мысли, делать необходимые выводы.</p> <p>Оценка «4» - «хорошо» выставляется, если дается комплексная оценка предложенной ситуации; демонстрируются глубокие</p> | <p>в решения ситуационн ых задач</p> <p>Оценка результатов и письменно го опроса</p> |
|--|--|--|--|

| | | | |
|--|--|--|--|
| | | <p>знания теоретического материала и умение их применять; последовательное, правильное выполнение всех заданий; возможны единичные ошибки, исправляемые самим студентом после замечания преподавателя; умение обоснованно излагать свои мысли, делать необходимые выводы.</p> <p>Оценка «3» - «удовлетворительно» выставляется, если студент демонстрирует затруднения с комплексной оценкой предложенной ситуации; неполное теоретическое обоснование, требующее наводящих вопросов преподавателя; выполняет задания при подсказке преподавателя; затрудняется в формулировке выводов. Оценка «2» - «неудовлетворительно» выставляется, если дана неправильная оценка предложенной ситуации; отсутствует теоретическое обоснование выполнения заданий.</p> <p>Оценка «5» - «отлично» выставляется, если обучающийся выполнил работу без ошибок и недочетов, допустил не более одного недочета.</p> <p>Оценка «4» - «хорошо» выставляется, если обучающийся выполнил работу полностью, но допустил в ней не более одной негрубой ошибки и одного недочета, или не более двух недочетов.</p> <p>Оценка «3» - «удовлетворительно» выставляется, если обучающийся правильно выполнил не менее половины работы или допустил не более двух грубых</p> | |
|--|--|--|--|

| | | | |
|--|--|---|--|
| | | <p>ошибок, или не более одной грубой и одной негрубой ошибки и одного недочета, или не более двух-трех негрубых ошибок, или одной негрубой ошибки и трех недочетов, или при отсутствии ошибок, но при наличии четырех-пяти недочетов, плохо знает теоретический материал, допускает искажение фактов.</p> <p>Оценка «2» - «неудовлетворительно» выставляется, если обучающийся допустил число ошибок и недочетов, превосходящее норму, при которой может быть выставлена оценка «3», или если правильно выполнил менее половины работы.</p> | |
|--|--|---|--|

5. Типовые контрольные задания или иные учебно-методические материалы, необходимые для оценивания степени сформированности компетенций в процессе освоения учебной дисциплины

5.1. Задания к практическим работам

ОК 01; ОК 02; ОК 03; ОК 04; ОК 05; ОК 07

Тест по теме «Агрегатные состояния вещества»

1. С увеличением относительной влажности разность показаний сухого и влажного термометров психрометра...

- 1) уменьшится.
- 2) увеличится.
- 3) не изменится.

2. Один моль влажного воздуха находится в ненасыщенном состоянии при температуре T и давлении p . Температуру газа изобарно увеличили. Как изменились при этом относительная влажность воздуха и точка росы?

Для каждой величины определите соответствующий характер изменения:

- 1) увеличилась
- 2) уменьшилась
- 3) не изменилась

Запишите в таблицу выбранные цифры для каждой физической величины. Цифры в ответе могут повторяться.

| Относительная влажность воздуха | Точка росы |
|---------------------------------|------------|
| | |

3. С помощью какого прибора можно измерить относительную влажность воздуха.




1)



2)



3)



4)

4. Стеклопластиковую пластинку подвесили к динамометру. После этого ею прикоснулись к поверхности жидкости и оторвали от нее. Для какой жидкости – ртути, воды или керосина – динамометр покажет в момент отрыва силу больше?

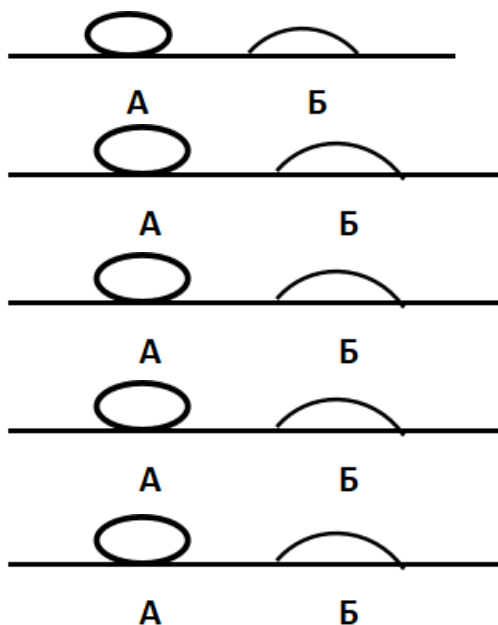
- 1) Для воды.
- 2) Для ртути.
- 3) Для керосина.
- 4) Показания будут одинаковые.

5. В двух капиллярных трубках одинакового радиуса находится вода и спирт (плотность спирта равна 800 кг/м^3 ; плотность воды – 1000 кг/м^3). Одна из этих жидкостей поднялась на 10 мм выше, чем другая. Выберите правильное утверждение.

- 1) Спирт поднялся выше, чем вода.
- 2) Вода поднялась выше, чем спирт.
- 3) Если радиус уменьшить, разность уровней жидкости уменьшится.
- 4) Среди утверждений нет правильного.

6. На стекле находятся капли воды и ртути. На каком рисунке ртуть?

- 1) А, т.к. ртуть смачивает стекло.
- 2) А, т.к. ртуть не смачивает стекло.
- 3) Б, т.к. ртуть смачивает стекло.
- 4) Б, т.к. ртуть не смачивает стекло.



7. Какое из перечисленных свойств характерно только для кристаллических тел?

- 1) Изотропность.
- 2) Отсутствие определенной температуры плавления.
- 3) Существование определенной температуры плавления.
- 4) Текучесть.

8. Какого вида деформацию испытывает стена здания?

- 1) Деформацию кручения.
- 2) Деформацию сжатия.
- 3) Деформацию сдвига.
- 4) Деформацию растяжения.

9. Какая из приведенных ниже формул выражает закон Гука?

- 1) $E = \sigma |\epsilon|$. 2) $\sigma = E / |\epsilon|$. 3) $\sigma = E |\epsilon|$. 4) $\sigma = |\epsilon| / E$.

10. Выберите все верные утверждения о физических явлениях, величинах и закономерностях. Запишите цифры, под которыми они указаны.

- 1) В герметически закрытом сосуде находятся вода и водяной пар. При нагревании сосуда концентрация молекул водяного пара увеличится.
- 2) Психрометр – прибор для измерения абсолютной влажности.
- 3) Точка росы – температура, при которой водяной пар становится насыщенным.
- 4) Пластическими называются деформации, которые полностью исчезают после прекращения действия внешних сил.
- 5) Все кристаллические тела анизотропны.

ОТВЕТЫ

| | | | | | | | | | |
|---|----|---|---|---|---|---|---|---|-----|
| 1 | 2 | 3 | 4 | 5 | 6 | 7 | 8 | 9 | 10 |
| 1 | 23 | 4 | 1 | 1 | 2 | 3 | 2 | 3 | 135 |

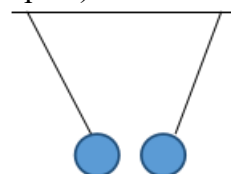
Тест по теме «Электростатика»

1. Как изменится сила взаимодействия двух точечных электрических зарядов при уменьшении расстояния между ними вдвое?

- 1) Не изменится.
- 2) Увеличится в 4 раза.
- 3) Уменьшится в 4 раза.
- 4) Уменьшится в 2 раза.

2. Что можно сказать о зарядах данных шариков? (см. рис.)

- 1) Оба шарика заряжены положительно.
- 2) Оба шарика заряжены отрицательно.
- 3) Один шарик заряжен положительно, другой – отрицательно.
- 4) Шарики имеют заряды одного знака.



3. В ядре атома свинца 207 частиц. Вокруг ядра обращается 82 электрона. Сколько нейтронов и протонов в ядре этого атома?

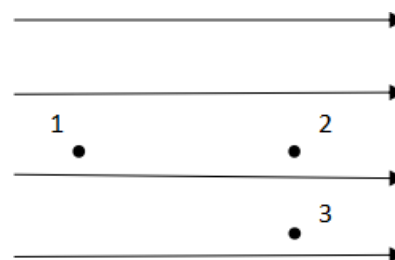
- 1) 82 протона, 125 нейтронов.
- 2) 125 протонов, 82 нейтрона.
- 3) 82 протона, 207 нейтронов.
- 4) 207 протонов, 82 нейтрона.

4. Как изменится напряженность электрического поля в некоторой точке от точечного заряда при увеличении заряда в 4 раза?

- 1) Увеличится в 16 раз.
- 2) Увеличится в 2 раза.
- 3) Увеличится в 4 раза.
- 4) Не изменится.

5. Электрон перемещается в поле, силовые линии которого показаны на рисунке. Выберите правильное утверждение.

- 1) При перемещении электрона из точки 2 в точку 3 электрическое поле совершает положительную работу.
- 2) При перемещении электрона по траектории 1-2-3-1 электрическое поле совершает отрицательную работу.
- 3) При перемещении электрона из точки 1 в



точку 2 электрическое поле совершает отрицательную работу.

4) При перемещении электрона из точки 2 в точку 3 электрическое поле совершает отрицательную работу.

6. Какое из приведённых ниже выражений характеризует работу электрического поля по перемещению заряда?

- 1) q/U . 2) $E\Delta d$. 3) qU . 4) $E/\Delta d$.

7. Какая физическая величина определяется отношением потенциальной энергии электрического заряда в электрическом поле к величине этого заряда?

- 1) Потенциал электрического поля.
2) Напряженность электрического поля.
3) Емкость.
4) Работа электростатического поля.

8. Воздушный конденсатор опускают в керосин с диэлектрической проницаемостью $\epsilon = 2$. Выберите правильное утверждение.

- 1) Емкость конденсатора уменьшится в 4 раза.
2) Емкость конденсатора уменьшится в 2 раза.
3) Емкость конденсатора увеличится в 2 раза.
4) Емкость конденсатора не изменится.

9. Как изменится энергия электрического поля конденсатора, если напряжение между его обкладками уменьшить в 2 раза?

- 1) Уменьшится в 2 раза.
2) Уменьшится в 4 раза.
3) Увеличится в 2 раза.
4) Увеличится в 4 раза.

10. Выберите все верные утверждения о физических явлениях, величинах и закономерностях. Запишите цифры, под которыми они указаны.

- 1) Напряженность – силовая характеристика электрического поля.
2) Электростатическое поле создают заряды, которые движутся равномерно в данной системе отсчета.
3) В изолированной системе алгебраическая сумма зарядов всех тел сохраняется.
4) Тела, через которые электрические заряды могут переходить от заряженного тела к незаряженному вследствие наличия в них свободных носителей зарядов, называются диэлектриками.

ОТВЕТЫ

| | | | | | | | | | |
|---|---|---|---|---|---|---|---|---|----|
| 1 | 2 | 3 | 4 | 5 | 6 | 7 | 8 | 9 | 10 |
| 2 | 3 | 1 | 3 | 3 | 3 | 1 | 3 | 2 | 13 |

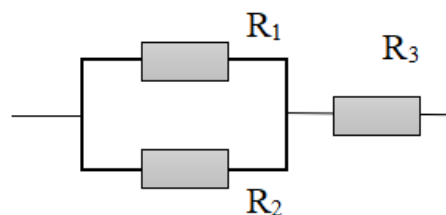
Тест по теме «Постоянный ток»

1. Во сколько раз отличаются сопротивления двух медных проводов, если один из них имеет в 4 раза большую длину и в 2 раза большую площадь поперечного сечения, чем другой?

- 1) В 8 раз. 2) В 4 раза. 3) В 2 раза. 4) В 16 раз.

2. На рисунке изображена схема соединения проводников. Выберите правильное утверждение.

- 1) Резисторы R_1 и R_3 включены последовательно.
 2) Резисторы R_1 и R_2 включены параллельно.
 3) Резисторы R_2 и R_3 включены последовательно.
 4) Резисторы R_1 и R_2 включены последовательно.



3. Какое из приведенных ниже выражений характеризует силу тока в полной цепи?

- 1) U / R . 2) $\rho I / S$. 3) $\mathcal{E} / (R + r)$. 4) $q / \Delta t$.

4. Необходимо измерить силу тока в лампе и напряжение на ней. Как следует включить по отношению к лампе амперметр и вольтметр?

- 1) Амперметр и вольтметр параллельно.
 2) Амперметр последовательно, вольтметр параллельно.
 3) Амперметр и вольтметр последовательно.
 4) Амперметр параллельно, вольтметр последовательно.

5. Физическая величина, характеризующая работу сторонних сил по разделению заряда 1 Кл внутри источника тока, называется...

- 1) ... сила тока.
 2) ... электродвижущая сила.
 3) ... напряжение.
 4) ... сопротивление.

6. Режим короткого замыкания в цепи возникает, когда ...

- 1) ... внешнее сопротивление цепи $R \Rightarrow 0$.
 2) ... внешнее сопротивление цепи $R \Rightarrow \infty$.
 3) ... внутреннее сопротивление источника тока очень мало.

- 4) ... внешнее сопротивление цепи равно внутреннему сопротивлению источника.
- 7.** Параллельно или последовательно с электрическим бытовым прибором в квартире включают плавкий предохранитель на электрическом щите?
- 1) Независимо от электрического прибора.
 - 2) Параллельно.
 - 3) Последовательно.
 - 4) Среди ответов нет верного.
- 8.** Электрическая цепь состоит из источника тока, амперметра и лампы. Изменится ли показание амперметра, если в цепь включить параллельно ещё такую же лампу? Выберите правильное утверждение.
- 1) Уменьшится, так как сопротивление цепи возрастет.
 - 2) Увеличится, так как сопротивление цепи уменьшится.
 - 3) Не изменится.
- 9.** Мощность электрического тока на участке цепи определяется следующим выражением:
- 1) $I \cdot U$.
 - 2) $I \cdot R$.
 - 3) $I \cdot U \cdot t$.
 - 4) U / R .
- 10.** Последовательно соединенные медная и стальная проволоки одинаковой длины и сечения подключены к аккумулятору (удельное сопротивление меди $1,7 \cdot 10^{-8}$ Ом·м; удельное сопротивление стали $12 \cdot 10^{-8}$ Ом·м). В какой из них выделится большее количество теплоты за одинаковое время?
- 1) В медной.
 - 2) В стальной.
 - 3) Количество теплоты одинаковое.

ОТВЕТЫ

| | | | | | | | | | |
|---|---|---|---|---|---|---|---|---|----|
| 1 | 2 | 3 | 4 | 5 | 6 | 7 | 8 | 9 | 10 |
| 3 | 2 | 3 | 2 | 2 | 1 | 3 | 2 | 1 | 2 |

Тест по теме «Ток в различных средах»

- 1.** Электрический ток в газах создается движением ...
- 1) ... свободных электронов.
 - 2) ... молекул.
 - 3) ... электронов, положительных и отрицательных ионов.
 - 4) ... дырок.
- 2.** Укажите прибор, в котором можно создать ток только в одном направлении.

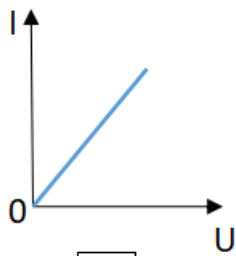
- 1) Конденсатор.
- 2) Резистор.
- 3) Полупроводниковый диод.
- 4) Катушка.

3. Выберите наиболее правильное продолжение фразы: «Термоэлектронная эмиссия – это явление, при котором ...»

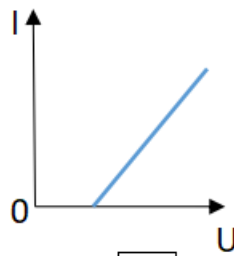
- 1) ... молекулы вылетают с поверхности проводника.
- 2) ... свободные электроны вылетают с поверхности проводника.
- 3) ... проводник заряжается, поглощая заряженные частицы из окружающей среды.
- 4) ... свободные электроны вылетают с поверхности нагретого проводника.

4. Как называется процесс выделения вещества на электродах?

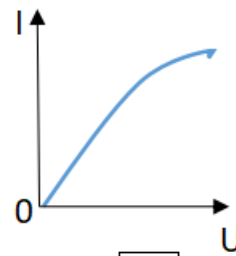
- 1) Электролитическая диссоциация.
- 2) Ионизация.
- 3) Электролиз.
- 4) Электризация.



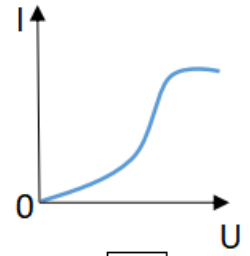
1



2



3



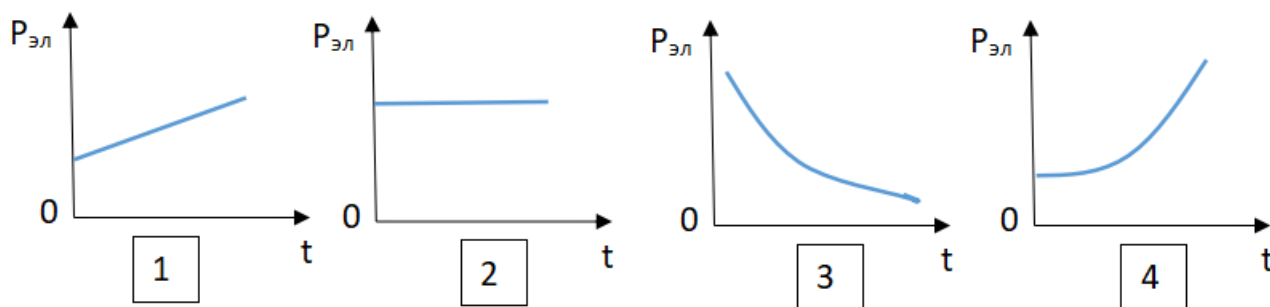
4

5. Какой из графиков соответствует вольтамперной характеристике электролитов?

6. В четырёхвалентный кремний добавили в первом опыте пятивалентный химический элемент, а во втором – трёхвалентный элемент. Каким типом проводимости в основном будет обладать полупроводник в каждом случае?

- 1) В первом – дырочной, во втором – электронной.
- 2) В первом – электронной, во втором – дырочной.
- 3) В обоих случаях электронной.
- 4) В обоих случаях дырочной.

7. Какой из графиков соответствует зависимости удельного сопротивления полупроводников от температуры?



8. Какие частицы являются носителями заряда в металлах?
- 1) Свободные электроны.
 - 2) Электроны и ионы.
 - 3) Ионы.
 - 4) Свободные электроны и дырки.
9. Как называется процесс создания носителей заряда в жидкостях?
- 1) Электролитическая диссоциация.
 - 2) Ионизация.
 - 3) Электролиз.
 - 4) Электризация.
10. В донорных полупроводниках электропроводность...
- 1) ... собственная.
 - 2) ... примесная электронная.
 - 3) ... примесная дырочная.
 - 4) ... эти материалы плохо проводят электрический ток.

ОТВЕТЫ

| | | | | | | | | | |
|---|---|---|---|---|---|---|---|---|----|
| 1 | 2 | 3 | 4 | 5 | 6 | 7 | 8 | 9 | 10 |
| 3 | 3 | 4 | 3 | 2 | 2 | 3 | 1 | 1 | 2 |

Тест по теме «Электромагнитная индукция»

1. Какое из приведенных ниже выражений характеризует понятие электромагнитной индукции?
- 1) Явление, характеризующее действие магнитного поля на движущийся заряд.
 - 2) Явление возникновения в замкнутом контуре электрического тока при изменении магнитного поля.
 - 3) Явление возникновения ЭДС в проводнике под действием магнитного поля.
2. С помощью какого правила определяют направление индукционного тока?
- 1) Правило правой руки.
 - 2) Правило буравчика.

- 3) Правило левой руки.
- 4) Правило Ленца.

3. Укажите все правильные утверждения, которые отражают сущность явления электромагнитной индукции: «В замкнутом контуре электрический ток появляется...»

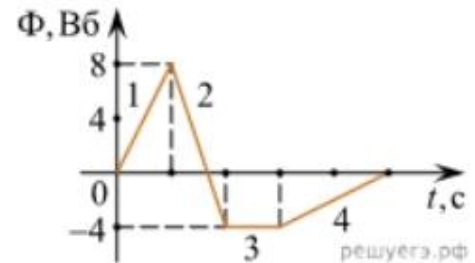
- 1) ... если магнитный поток не меняется.
- 2) ... если магнитный поток не равен нулю.
- 3) ... при увеличении магнитного потока.
- 4) ... при уменьшении магнитного потока.

4. Что определяется скоростью изменения магнитного потока через контур?

- 1) Индуктивность контура.
- 2) ЭДС индукции.
- 3) Магнитная индукция.
- 4) Индукционный ток.

5. На рисунке показан график зависимости магнитного потока, пронизывающего контур, от времени. На каком из участков графика в контуре не возникает ЭДС индукции?

- 1) 1.
- 2) 2.
- 3) 3.
- 4) 4.



6. Сила тока в катушке увеличилась в 2 раза. Выберите верное утверждение.

- 1) Индуктивность катушки увеличилась в 2 раза.
- 2) Индуктивность катушки увеличилась в $\sqrt{2}$ раз.
- 3) Индуктивность катушки уменьшилась в 2 раза.
- 4) Индуктивность катушки не изменилась.

7. Как уменьшить индуктивность катушки с железным сердечником при условии, что габариты обмотки (её длина и поперечное сечение) останутся неизменными?

- 1) Уменьшить число витков.
- 2) Уменьшить силу тока в катушке.
- 3) Вынуть железный сердечник.
- 4) Увеличить толщину обмотки.

8. Сила тока в контуре увеличилась в два раза. Укажите все правильные утверждения.

- 1) Энергия магнитного поля контура увеличилась в два раза.
- 2) Энергия магнитного поля контура увеличилась в четыре раза.

- 3) Энергия магнитного поля контура уменьшилась в два раза.
 4) Энергия магнитного поля контура не изменилась.
9. Какое математическое выражение служит для определения ЭДС индукции в замкнутом контуре?
 1) $-\Delta\Phi / \Delta t$. 2) $IBAl \sin\alpha$. 3) $BScos\alpha$. 4) $BSsina$.
10. Как нужно изменить индуктивность контура, для того чтобы при неизменном значении силы тока в нём энергия магнитного поля уменьшилась в 4 раза.
 1) Уменьшить в два раза.
 2) Уменьшить в четыре раза.
 3) Увеличить в два раза.
 4) Увеличить в четыре раза.

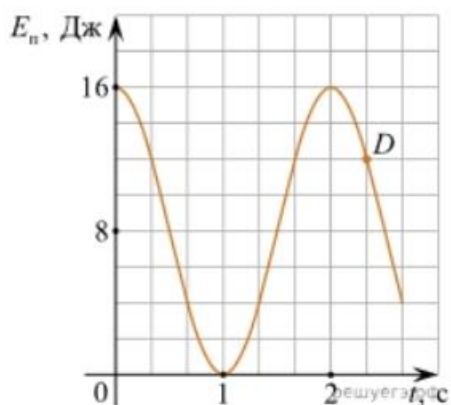
ОТВЕТЫ

| | | | | | | | | | |
|---|---|----|---|---|---|---|---|---|----|
| 1 | 2 | 3 | 4 | 5 | 6 | 7 | 8 | 9 | 10 |
| 2 | 4 | 34 | 2 | 3 | 4 | 3 | 2 | 1 | 2 |

Тест по теме «Механические колебания и волны»

1. Какие из перечисленных ниже колебаний являются вынужденными? Укажите все правильные ответы.
 1) Колебания качелей, раскачиваемых человеком, стоящим на земле.
 2) Колебания груза на нити, один раз отведенного от положения равновесия и отпущенного.
 3) Колебания диффузора громкоговорителя во время работы приемника.
 4) Колебания чашек рычажных весов.
2. Подвешенный на нити груз совершает малые колебания. Считая колебания незатухающими, укажите все правильные утверждения.
 1) Чем длиннее нить, тем больше частота колебаний.
 2) При прохождении грузом положения равновесия скорость груза максимальна.
 3) Груз совершает периодическое движение.
 4) Период колебаний зависит от амплитуды.
3. На рисунке представлен график зависимости потенциальной энергии математического маятника (относительно положения его равновесия) от времени. Какова полная механическая энергия маятника в момент времени, соответствующий на графике точке D?

- 1) 4 Дж.
- 2) 16 Дж.
- 3) 12 Дж.
- 4) 8 Дж.



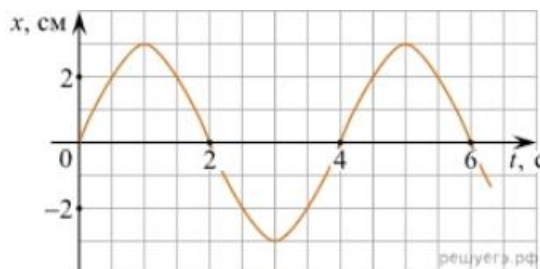
4. Какое из приведенных ниже выражений определяет период колебаний груза массой m , подвешенного на пружине жесткостью k ?

- 1) $2\pi\sqrt{\frac{l}{g}}$.
- 2) $2\pi\sqrt{\frac{m}{k}}$.
- 3) $\frac{1}{2\pi}\sqrt{\frac{g}{l}}$.
- 4) $\frac{1}{2\pi}\sqrt{\frac{k}{m}}$.

5. Как изменится период колебаний математического маятника, если длину нити уменьшить в 4 раза?

- 1) Уменьшится в 4 раза.
- 2) Уменьшится в 2 раза.
- 3) Увеличится в 4 раза.
- 4) Увеличится в 2 раза.

6. На рисунке приведен график гармонических колебаний. Укажите все правильные утверждения.



- 1) Амплитуда колебаний равна 2 см.
- 2) Период колебаний 2 с.
- 3) Частота колебаний 0,5 Гц.
- 4) Среди утверждений нет правильного

7. Каковы свойства продольных волн? Укажите все правильные ответы.

- 1) Эти волны могут распространяться только в газах.
- 2) Продольные волны представляют собой чередующиеся разрежения и сжатия.
- 3) Частицы среды при колебаниях смещаются вдоль направления распространения волны.
- 4) Частицы среды при колебаниях смещаются перпендикулярно направлению распространения волны.

8. В каких направлениях совершаются колебания в поперечной волне?

- 1) Во всех направлениях.
- 2) Только по направлению распространения волны.
- 3) Только перпендикулярно распространению волны.

4) Среди ответов нет правильного.

9. Установите соответствие между примерами и физическими явлениями, которые эти примеры иллюстрируют. Для каждого примера проявления физических явлений из первого столбца подберите соответствующее название физического явления из второго столбца.

ПРИМЕРЫ

ФИЗИЧЕСКИЕ ЯВЛЕНИЯ

- | | |
|---|--|
| А) эхо в лесу | 1) Огибание звуком препятствия |
| Б) определение глубины водоёма с помощью навигационного прибора эхолота | 2) Явление полного внутреннего отражения |
| | 3) Отражение света |
| | 4) Отражение звука от препятствия |

Запишите в таблицу выбранные цифры под соответствующими буквами.

| | |
|---|---|
| А | Б |
| | |

10. Какие из перечисленных ниже волн являются поперечными? Укажите все правильные ответы.

- 1) Волны на поверхности воды.
- 2) Звуковые волны в газах.
- 3) Радиоволны.

ОТВЕТЫ

| | | | | | | | | | |
|---|----|---|---|---|---|----|---|----|----|
| 1 | 2 | 3 | 4 | 5 | 6 | 7 | 8 | 9 | 10 |
| 1 | 23 | 2 | 2 | 2 | 4 | 23 | 3 | 44 | 13 |

Тест по теме «Электромагнитные колебания и волны»

1. Как изменится частота электромагнитных колебаний в контуре $L - C$, если емкость конденсатора увеличить в четыре раза?

- 1) Увеличится в 4 раза.
- 2) Увеличится в 2 раза.
- 3) Уменьшится в 4 раза.
- 4) Уменьшится в 2 раза.

2. Значение силы переменного тока, измеренное в амперах, задано уравнением $i = 0,1 \sin 100\pi t$. Укажите все правильные утверждения.

- 1) Амплитуда силы тока 0,1 А.
- 2) Период равен 100 с.
- 3) Частота равна 50 Гц.
- 4) Циклическая частота 100 рад/с.

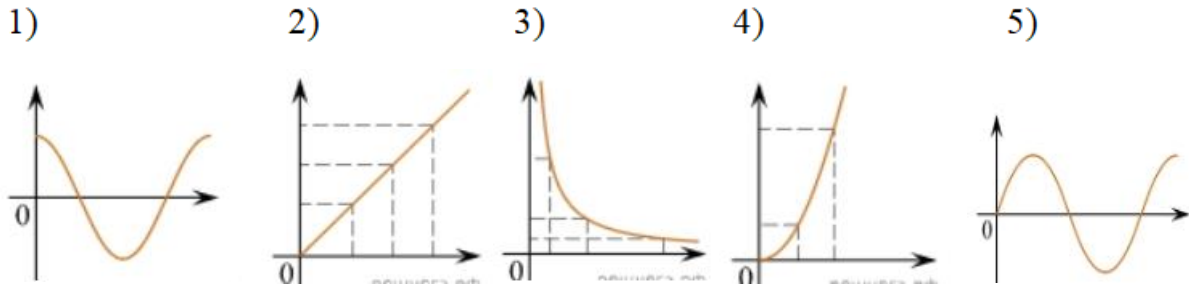
3. Даны следующие зависимости величин:

А) Зависимость напряжения на конденсаторе от времени в колебательном контуре, учитывая, что в начальный момент времени конденсатор заряжен.

Б) Зависимость энергии магнитного поля катушки с током от силы тока в ней.

В) Зависимость длины излучаемой электромагнитной волны от частоты колебаний заряда в металлическом проводнике.

Установите соответствие между этими зависимостями и видами графиков, обозначенных цифрами 1–5. Для каждой зависимости А–В подберите соответствующий вид графика и запишите в таблицу выбранные цифры под соответствующими буквами.



| А | Б | В |
|---|---|---|
| | | |

Ответ:

4. Каким образом осуществляется передача электрической энергии из первичной обмотки трансформатора во вторичную обмотку? Укажите все правильные ответы.

- 1) Через провода, соединяющие обмотки трансформатора.
- 2) С помощью переменного магнитного поля, пронизывающего обе катушки.
- 3) С помощью электромагнитных волн.
- 4) Правильных ответов нет.

5. Какое из приведенных ниже выражений определяет понятие электромагнитное поле?

- 1) Процесс распространения колебаний заряженных частиц.
- 2) Особая форма материи, осуществляющая взаимодействие между заряженными частицами.
- 3) Особая форма материи, осуществляющая взаимодействие между любыми частицами.

6. В первичной обмотке трансформатора 100 витков, во вторичной обмотке – 20. Выберите все правильные утверждения.

- 1) Трансформатор является понижающим.
- 2) Трансформатор является повышающим.
- 3) Коэффициент трансформации равен 0,2.
- 4) Коэффициент трансформации равен 5.

7. Продолжите фразу: «Электромагнитная волна – это ...». Выберите все правильные утверждения.

- 1) ... процесс распространения колебаний электрической напряженности и магнитной индукции.
- 2) ... кратчайшее расстояние между двумя точками, колеблющимися в одинаковых фазах.
- 3) ... процесс распространения колебаний заряженных частиц.
- 4) ... процесс распространения электромагнитного поля от источника колебаний в пространстве.

8. Как ориентированы векторы магнитной индукции \vec{B} , электрической напряженности \vec{E} и скорости \vec{c} по отношению друг к другу в электромагнитной волне?

- 1) $\vec{B} \perp \vec{E} \perp \vec{c}$; $\vec{B} \perp \vec{E} \perp \vec{c}$.
- 2) $\vec{B} \perp \vec{c}$; $\vec{E} \parallel \vec{c}$; $\vec{B} \perp \vec{c}$; $\vec{E} \parallel \vec{c}$.
- 3) $\vec{B} \perp \vec{E} \perp \vec{c}$; $\vec{B} \perp \vec{E} \perp \vec{c}$.
- 4) $\vec{B} \parallel \vec{E} \parallel \vec{c}$; $\vec{B} \parallel \vec{E} \parallel \vec{c}$.

9. Какое устройство в приёмнике Попова регистрирует приём электромагнитных волн?

- 1) Электромагнитное реле.
- 2) Когерер.
- 3) Антенна.
- 4) Электрический звонок.

10. Продолжите фразу: «Процесс наложения колебаний одной частоты на колебания другой частоты называется...».

- 1) ... радиосвязь.
- 2) ... детектирование.
- 3) ... модуляция.
- 4) ... радиолокация.

ОТВЕТЫ

| 1 | 2 | 3 | 4 | 5 | 6 | 7 | 8 | 9 | 10 |
|---|----|---|---|---|----|-----|---|---|----|
| 4 | 13 | A | 2 | 2 | 14 | 134 | 3 | 2 | 3 |
| | | — | | | | | | | |
| | | 1 | | | | | | | |
| | | Б | | | | | | | |
| | | — | | | | | | | |
| | | 4 | | | | | | | |
| | | В | | | | | | | |
| | | — | | | | | | | |
| | | 3 | | | | | | | |

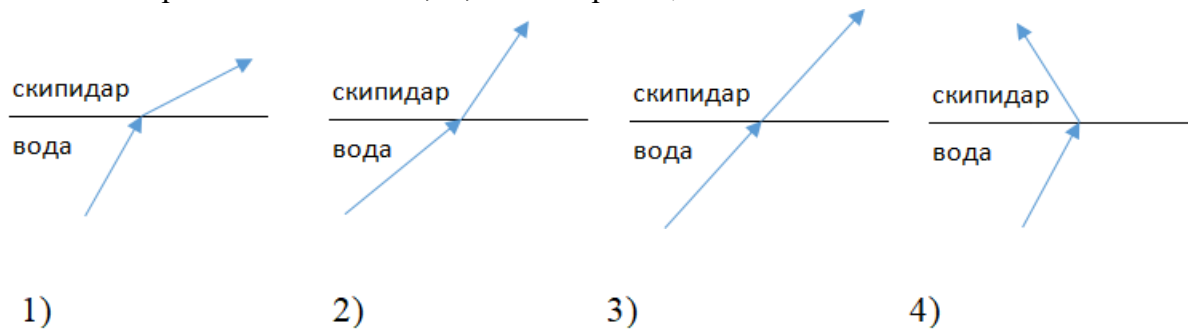
1. При переходе света из вакуума в прозрачную среду с абсолютным показателем преломления $n = 2$ скорость распространения...

- 1) ... увеличивается в 2 раза.
- 2) ... остается неизменной.
- 3) ... уменьшается в 2 раза.

2. Для нахождения предельного угла при падении луча на границу «стекло-вода» нужно использовать формулу. Выберите все правильные ответы.

- 1) $\sin \alpha_0 = n_c / n_b$.
- 2) $\sin \alpha_0 = n_c \cdot n_b$.
- 3) $\sin \alpha_0 = n_b / n_c$.

3. Луч переходит из воды в скипидар. На каком из рисунков правильно изображен ход луча? Показатель преломления воды 1,33, скипидара – 1,6.



4. Угол падения луча равен 50° . Угол отражения луча равен.

- 1) 90° .
- 2) 40° .
- 3) 50° .
- 4) 100° .

5. Предмет находится между фокусом F и двойным фокусом $2F$ рассеивающей линзы. Изображение предмета ...

- 1) ... мнимое, прямое, увеличенное.
- 2) ... действительное, перевернутое, увеличенное.
- 3) ... мнимое, прямое, уменьшенное.
- 4) ... действительное, перевернутое, уменьшенное.

6. Световой пучок выходит из стекла в воздух. Что происходит при этом с частотой электромагнитных колебаний в световой волне и скоростью их распространения?

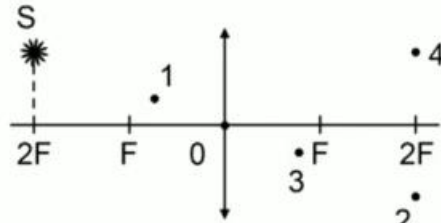
- 1) Частота и скорость увеличиваются.
- 2) Частота – увеличивается, скорость – уменьшается.
- 3) Частота и скорость не изменяются.
- 4) Частота – не изменяется, скорость – увеличивается.

7. Физическая величина, равная отношению светового потока, падающего на поверхность, к площади этой поверхности, называется ...

- 1) ... силой света.

- 2) ... яркостью.
- 3) ... освещенностью.
- 4) ... телесным углом.

8. Укажите точку, в которой находится изображение светящейся точки S (см. рисунок), создаваемое тонкой собирающей линзой.

| | |
|--|--|
| <ol style="list-style-type: none"> 1) 1. 2) 2. 3) 3. 4) 4. |  |
|--|--|

9. Установите соответствие между оптическим прибором (устройством) и типом изображения, полученным с его помощью.

| Оптические приборы | Тип изображения |
|--|--|
| А) Мультимедиа проектор Б) Дверной глазок | <ol style="list-style-type: none"> 1) Уменьшенное, мнимое. 2) Увеличенное, действительное. 3) Уменьшенное, действительное. 4) Увеличенное, мнимое. |

| | |
|---|---|
| А | Б |
| | |

О т в е т:

10. Выберите все верные утверждения о физических явлениях, величинах и закономерностях. Запишите цифры, под которыми они указаны.

- 1) В однородной прозрачной среде свет распространяется прямолинейно.
- 2) При преломлении электромагнитных волн на границе двух сред скорость волны не изменяется.
- 3) Явление полного внутреннего отражения может наблюдаться только при углах падения больше предельного.
- 4) Собирающая линза может давать как мнимые, так и действительные изображения.

ОТВЕТЫ

| | | | | | | | | | |
|---|---|---|---|---|---|---|---|----|-----|
| 1 | 2 | 3 | 4 | 5 | 6 | 7 | 8 | 9 | 10 |
| 3 | 3 | 2 | 3 | 3 | 4 | 3 | 2 | 21 | 134 |

Тест по теме «Волновые свойства света»

1. Как изменится длина волны красного излучения при переходе света из воздуха в воду?
 - 1) Уменьшается.
 - 2) Увеличивается.

- 3) Не изменяется.
- 2.** Какое из приведенных ниже выражений определяет понятие интерференции?
- 1) Наложение когерентных волн.
 - 2) Разложение света в спектр при преломлении.
 - 3) Огибание волной препятствий.
- 3.** Какое из наблюдаемых явлений объясняется дифракцией света?
- 1) Излучение света лампой накаливания.
 - 2) Радужная окраска компакт-дисков.
 - 3) Радужная окраска тонких мыльных пленок.
 - 4) Радуга.
- 4.** Свет какого цвета меньше других отклоняется призмой спектроскопа?
- 1) Фиолетового.
 - 2) Синего.
 - 3) Зеленого.
 - 4) Красного.
- 5.** Какие из приведенных ниже выражений являются условием наблюдения главных максимумов в спектре дифракционной решетки с периодом d под углом φ ?
- 1) $d \sin \varphi = k \lambda$.
 - 2) $d \cos \varphi = k \lambda$.
 - 3) $d \sin \varphi = (2k + 1) \lambda/2$.
 - 4) $d \cos \varphi = (2k + 1) \lambda/2$.
- 6.** Какое явление доказывает поперечность световых волн?
- 1) Дисперсия.
 - 2) Отражение.
 - 3) Преломление.
 - 4) Поляризация.
- 7.** Какое из перечисленных ниже электромагнитных излучений имеет наименьшую длину волны?
- 1) Излучение видимого спектра.
 - 2) Радиоволны.
 - 3) Рентгеновское излучение.
 - 4) Ультрафиолетовое излучение.
- 8.** Укажите все правильные ответы. Две световые волны являются когерентными, если ...
- 1) ... волны имеют одинаковую частоту ($\nu_1 = \nu_2$).
 - 2) ... волны имеют постоянную разность фаз колебаний ($\Delta\varphi = \text{const}$).

- 3) ... волны имеют одинаковую частоту ($\nu_1 = \nu_2$) и постоянную разность фаз колебаний ($\Delta\varphi = \text{const}$).
- 4) ... волны имеют разную частоту ($\nu_1 \neq \nu_2$) и постоянную разность фаз колебаний ($\Delta\varphi = \text{const}$).

9. Какие из излучений используются для исследования структуры и внутренних дефектов твердых тел и конструкций?

| | |
|--------------------------------|-------------|
| А. Ультрафиолетовое излучение. | 1) А. |
| Б. Гамма-излучение. | 2) А и Б. |
| В. Видимое излучение. | 3) А, В, Д. |
| Г. Радиоволны. | 4) Б и Д. |
| Д. Рентгеновское излучение. | |

10. На рисунке приведены спектр поглощения разреженных атомарных паров неизвестного газа (в середине) и спектры поглощения паров водорода и гелия. В состав неизвестного газа входит(-ят) ...

| | |
|--|--|
| | <p>1) Водород.</p> <p>2) Гелий.</p> <p>3) Водород и гелий.</p> <p>4) Ни водород, ни гелий.</p> |
|--|--|

11. Два автомобиля движутся в одном и том же направлении со скоростями v_1 и v_2 относительно поверхности Земли. Скорость света от фар первого автомобиля в системе отсчета, связанной с другим автомобилем, равна:

- 1) $c + (v_1 + v_2)$.
- 2) c .
- 3) $c + (v_1 - v_2)$.

ОТВЕТЫ

| | | | | | | | | | | |
|---|---|---|---|---|---|---|---|---|---|---|
| 1 | 2 | 3 | 4 | 5 | 6 | 7 | 8 | 9 | 1 | 1 |
| | | | | | | | | | 0 | 1 |
| 1 | 1 | 2 | 4 | 1 | 4 | 3 | 3 | 4 | 1 | 2 |

Тест по теме «Физика атома и атомного ядра»

1. Какие из приведенных ниже утверждений соответствуют смыслу постулатов Бора? Укажите все правильные ответы.

- 1) В атоме электроны движутся по круговым орбитам и излучают при этом электромагнитные волны.
- 2) Атом может находиться только в одном из стационарных состояний, в стационарных состояниях атом энергию не излучает.
- 3) Атом состоит из ядра и электронов. Заряд и почти вся масса атома сосредоточены в ядре.
- 4) При переходе из одного стационарного состояния в другое атом поглощает или излучает квант электромагнитного излучения.

2. Какое явление используется в оптических квантовых генераторах?

- А. Спонтанное излучение.
 Б. Индуцированное излучение.

- 1) А.
- 2) Б.
- 3) А и Б.
- 4) Ни А, ни Б.

3. Сравните силы ядерного притяжения между двумя протонами F_{pp} , двумя нейтронами F_{nn} , а также между протоном и нейтроном F_{pn} .

- 1) $F_{nn} > F_{pn} > F_{pp}$.
- 2) $F_{nn} \approx F_{pn} > F_{pp}$.
- 3) $F_{nn} \approx F_{pn} \approx F_{pp}$.
- 4) $F_{nn} < F_{pn} < F_{pp}$.

4. Что означают цифры у ядра атома азота ${}^{14}_7\text{N}$?

- 1) 7 – число электронов, 14 – число протонов.
- 2) 7 – число нейтронов, 14 – число протонов.
- 3) 7 – число протонов, 14 – число протонов и нейтронов.
- 4) 7 – число электронов, 14 – число нейтронов.

5. Что представляет собой β -излучение?

- 1) Поток быстрых электронов.
- 2) Поток нейтронов.
- 3) Поток квантов электромагнитного излучения.
- 4) Поток ядер гелия.


6. Элемент ${}^A_Z\text{X}$ испытал α -распад. Какой заряд и массовое число будет у нового элемента Y?

- 1) ${}^A_{Z+1}\text{Y}$.
- 2) ${}^{A-4}_{Z-2}\text{Y}$.
- 3) ${}^{A-2}_{Z-4}\text{Y}$.
- 4) ${}^A_{Z-1}\text{Y}$.

7. Каково соотношение между массой радиоактивного ядра M_j и суммой масс свободных протонов $Z \cdot m_p$ и свободных нейтронов $N \cdot m_n$, из которых составлено это ядро. Укажите правильный ответ.

- 1) $M_j = (Z \cdot m_p + N \cdot m_n)$.
- 2) $M_j < (Z \cdot m_p + N \cdot m_n)$.
- 3) $M_j > (Z \cdot m_p + N \cdot m_n)$.

8. Дан график зависимости числа не распавшихся ядер эрбия от времени. Каков период полураспада этого изотопа эрбия?



9. Какое из приведенных ниже выражений определяет понятие цепная ядерная реакция? Укажите правильный ответ.

- 1) Процесс самопроизвольного распада ядер атомов некоторых химических элементов.
- 2) Процесс превращения атомных ядер, происходящий в результате их взаимодействия с элементарными частицами или друг с другом.
- 3) Процесс деления атомных ядер некоторых химических элементов, происходящий под действием нейтронов, образующихся в процессе самой ядерной реакции.

10. Какие вещества из перечисленных ниже могут быть использованы в ядерных реакторах в качестве замедлителей нейтронов?

А. Графит. Б. Кадмий. В. Тяжелая вода. Г. Бор.

- 1) А и В. 3) А и Б.
- 2) Б и Г. 4) В и Г.

ОТВЕТЫ

| | | | | | | | | | |
|----|---|---|---|---|---|---|---|---|----|
| 1 | 2 | 3 | 4 | 5 | 6 | 7 | 8 | 9 | 10 |
| 24 | 2 | 3 | 3 | 1 | 2 | 2 | 1 | 3 | 1 |

5.2. Вопросы для устного опроса

ОК 01; ОК 02; ОК 03; ОК 04; ОК 05; ОК 07; ПК 2.2

«Молекулярная физика и термодинамика»

Задача №1. Определите среднюю квадратичную скорость молекул одноатомного идеального газа, находящегося под давлением $5 \cdot 10^5$ Па, если концентрация молекул 10^{25} м^{-3} , а масса каждой молекулы $3 \cdot 10^{-26}$ кг

Задача №2. Определите массу азота в сосуде, емкостью $4 \cdot 10^{-3} \text{ м}^3$, наполненного под давлением $2 \cdot 10^5$ Па при температуре 30°C .

Задача №3. За цикл тепловая машина получает от нагревателя количество теплоты 300 Дж и отдает холодильнику 250 Дж. Чему равен КПД тепловой машины?

«Электрическое поле. Законы постоянного тока»

Задача №1. В керосине расположен заряд в $1,5 \cdot 10^{-9}$ Кл и на расстоянии 0,006 м притягивает к себе второй заряд с силой $2 \cdot 10^{-3}$ Н. Найдите величину второго заряда.

Задача №2. Какое сечение должен иметь медный провод, если при силе протекающего по нему тока 160 А потеря напряжения составляет 8 В. Длина провода, подводящего ток к потребителю, равна 70 м.

Задача №3. Определите напряжение на зажимах батареи, если два элемента соединены параллельно. Первый элемент имеет ЭДС 2 В и внутреннее сопротивление 0,6 Ом. Второй имеет ЭДС 1,5 В и внутреннее сопротивление 0,4 Ом.

«Магнитное поле. Электромагнитная индукция»

Задача №1. Сколько витков должна содержать катушка с площадью поперечного сечения 50 см². При изменении магнитной индукции катушки от 0,2 до 0,3 Тл в течение 4 мс в ней возбуждалась ЭДС 10 В.

Задача №2. Определить время, в течение которого в обмотке выделится количество теплоты, равное энергии магнитного поля в сердечнике электромагнита. Обмотка электромагнита имеет индуктивность 0,8 Гн, сопротивление 15 Ом и находится под постоянным напряжением.

Задача №3. Сила Лоренца, действующая на электрон, равна $5 \cdot 10^{-13}$ Н. С каким ускорением движется электрон в однородном магнитном поле (вектор магнитной индукции перпендикулярен вектору скорости) с индукцией 0,06 Тл.

«Колебания и волны»

Задача №1. Ток в колебательном контуре изменяется со временем по закону $i = 0,02 \cos 628t$. Найти индуктивность контура, зная, что емкость его конденсатора $2 \cdot 10^{-5}$ Ф.

Задача №2. Трансформатор, содержащий в первичной обмотке 720 витков, повышает напряжение с 220 В до 600 В. Определите коэффициент трансформации, число витков во вторичной обмотке? Выясните, в какой обмотке провод имеет большую площадь поперечного сечения?

Задача №3. В цепь переменного тока со стандартной частотой включена катушка с индуктивностью 80 мГн. Найдите действующее значение напряжения на данном участке цепи, если действующее значение силы тока равно 2 А.

«Оптика»

Задача №1. Под каким углом виден первый максимум? Дифракционная решётка содержит 600 штрихов на 1 мм. На решётку падает свет длиной волны 500 нм.

Задача №2. В некоторую точку пространства приходит излучение с оптической разностью хода волн 1,9 мкм. Определить, усилится или ослабнет свет в этой точке, если длина волны 500 нм.

Задача №3. Длина волны желтого света паров натрия в воздухе равна 589 нм. Какова длина волны желтого света паров натрия в стекле с показателем преломления 1,56.

«Квантовая физика»

Задача №1. Найти величину запирающего напряжения для фотоэлектронов при освещении металла светом с длиной волны 350 нм. Красная граница фотоэффекта для металла $6,2 \cdot 10^{-5}$ см.

Задача №2. Рассчитайте, за какое время количество атомов йода-131 уменьшится в 2000 раз. Период полураспада радиоактивного йода-131 равен 8 сут.

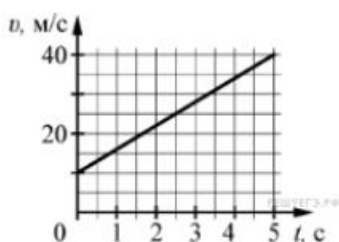
Задача №3. Рассчитайте энергию связи и удельную энергию связи, дефект массы ядра углерода $^{12}_6\text{C}$.

5.3. Вопросы к экзамену

ОК 01; ОК 02; ОК 03; ОК 04; ОК 05; ОК 07; ПК 2.2

Напишите краткое решение задачи и выберите букву правильного ответа:

1.



На графике приведена зависимость скорости тела от времени при прямолинейном движении. Определите по графику ускорение тела. (Ответ дайте в метрах в секунду в квадрате.)

А. 6 м/с^2 Б. 8 м/с^2 В. 15 м/с^2 Г. 20 м/с^2

2. Автомобиль массой 1000 кг движется с постоянной по модулю скоростью по выпуклому мосту. Автомобиль действует на мост в верхней его точке с силой $F = 9000 \text{ Н}$. Сила, с которой мост действует на автомобиль, равна

А) 1000 Н и направлена вертикально вверх

Б) 19 000 Н и направлена вертикально вниз

В) 9000 Н и направлена вертикально вниз

Г) 9000 Н и направлена вертикально вверх

3. С балкона с высоты 5 м бросают мяч в горизонтальном направлении. Начальная скорость мяча 7 м/с, его масса 0,1 кг. Через 2 с после броска импульс мяча приблизительно равен

А) 0

Б) 2,1 кг·м/с

В) 0,7 кг·м/с

Г) 1,4 кг·м/с

4. В каких телах — твёрдых, жидких или газообразных — происходит диффузия?

А) только в жидких

- Б) только в твёрдых
- В) только в газообразных
- Г) в твёрдых, жидких и газообразных

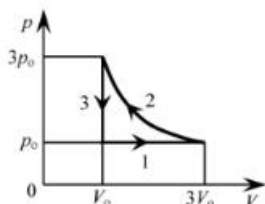
5. Сколько молекул содержится в капле воды массой 0,3 г?

- А. 10^{23} Б. 10^{22} В. $3 \cdot 10^{22}$ Г. $6 \cdot 10^{22}$

6. Как изменится давление разреженного одноатомного газа, если при увеличении концентрации молекул газа в 3 раза его абсолютная температура увеличится в 2 раза?

- А) увеличится в 6 раз
- Б) увеличится в 2 раза
- В) уменьшится в 6 раз
- Г) останется без изменений

7.



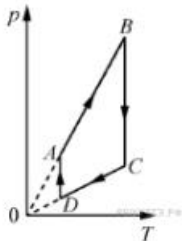
На pV -диаграмме отображена последовательность трёх процессов (1 → 2 → 3) изменения состояния 2 моль идеального газа. Какова эта последовательность процессов в газе?

- А) расширение → нагревание → охлаждение
- Б) расширение → охлаждение → сжатие при постоянной температуре
- В) нагревание → сжатие при постоянной температуре → охлаждение
- Г) нагревание → расширение → сжатие

8. Относительная влажность воздуха в закрытом сосуде 30%. Какой станет относительная влажность, если объём сосуда при неизменной температуре уменьшить в 3 раза?

- А) 60% Б) 90% В) 120% Г) 100%

9.



На рисунке представлен график циклического процесса, проведённого с одноатомным идеальным газом. На каком из участков внутренняя энергия газа увеличивалась? Количество вещества газа постоянно.

А) DA ; Б) BC ; В) AB ; Г) CD

10. Силы электростатического взаимодействия между двумя точечными заряженными телами равны по модулю F . Как изменится модуль сил электростатического взаимодействия между этими телами, если заряд каждого тела увеличить в 3 раза?

А) увеличится в 3 раза

Б) увеличится в 9 раз

В) уменьшится в 9 раз

Г) уменьшится в 3 раза

11. Как изменится величина заряда, прошедшего через поперечное сечение проводника, если сила тока уменьшится в 2 раза, а время протекания тока в проводнике увеличится в 2 раза?

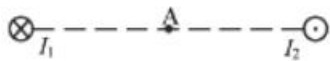
А) не изменится

Б) увеличится в 4 раза

В) увеличится в 2 раза

Г) уменьшится в 4 раза

12.



Магнитное поле $\vec{B} = \vec{B}_1 + \vec{B}_2$ создано в точке A двумя параллельными длинными проводниками с токами I_1 и I_2 , расположенными перпендикулярно плоскости чертежа. Векторы \vec{B}_1 и \vec{B}_2 в точке A направлены в плоскости чертежа следующим образом:

А) \vec{B}_1 — вниз, \vec{B}_2 — вверх

Б) \vec{B}_1 — вверх, \vec{B}_2 — вверх

В) \vec{B}_1 — вниз, \vec{B}_2 — вниз

Г) \vec{B}_1 — вверх, \vec{B}_2 — вниз

13. Магнит выносится из алюминиевого кольца. Направление тока в кольце против часовой стрелки со стороны магнита. Каким полюсом магнит обращен к кольцу?

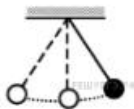
А) положительным;

Б) отрицательным;

В) северным;

Г) южным

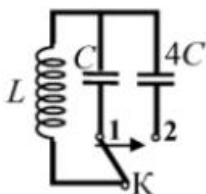
14.



Математический маятник с периодом колебаний T отклонили на небольшой угол от положения равновесия и отпустили с начальной скоростью, равной нулю (см. рисунок). Через какое время после этого потенциальная энергия маятника в первый раз вновь достигнет максимума? Сопротивлением воздуха пренебречь.

А) $\frac{1}{4}T$ Б) $\frac{1}{8}T$ В) $\frac{1}{2}T$ Г) T

15.



Как изменится период собственных электромагнитных колебаний в контуре (см. рисунок), если ключ K перевести из положения 1 в положение 2?

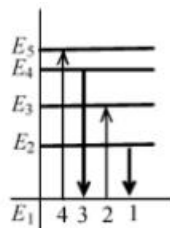
А) уменьшится в 4 раза

Б) увеличится в 4 раза

В) уменьшится в 2 раза

Г) увеличится в 2 раза

16.



На рисунке изображена диаграмма энергетических уровней атома. Какой цифрой обозначен переход, который соответствует излучению фотона с наименьшей энергией?

А) 1 Б) 2 В) 3 Г) 4

17. На рисунке представлен фрагмент Периодической системы элементов Д. И. Менделеева. Под названием каждого элемента приведены массовые числа его

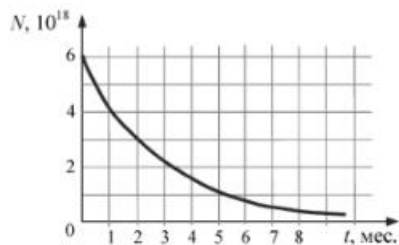
основных стабильных изотопов. При этом нижний индекс около массового числа указывает (в процентах) распространённость изотопа в природе.

| | | | | | | |
|---|-----|---|---|----|---|----|
| 2 | II | Li ЛИТИЙ 7 ₉₃ 6 _{7,4} | Be БЕРИЛЛИЙ 9 ₁₀₀ | 5 | B БОР 11 ₈₀ 10 ₂₀ | |
| 3 | III | Na НАТРИЙ 23 ₁₀₀ | Mg МАГНИЙ 24 ₇₉ 26 ₁₁ 25 ₁₀ | 13 | Al АЛЮМИНИЙ 27 ₁₀₀ | |
| 4 | IV | K КАЛИЙ 39 ₉₃ 41 _{6,7} | Ca КАЛЬЦИЙ 40 ₉₇ 44 _{2,1} | 20 | Sc СКАНДИЙ 45 ₁₀₀ | |
| | V | 29 | Cu МЕДЬ 63 ₆₉ 65 ₃₁ | 30 | Zn ЦИНК 64 ₄₉ 66 ₂₈ 68 ₁₉ | 31 |

Число протонов и число нейтронов в ядре самого распространённого изотопа галлия соответственно равно

- А) 31 протон, 38 нейтронов
- Б) 69 протонов, 31 нейтрон
- В) 38 протонов, 31 нейтрон
- Г) 38 протонов, 60 нейтронов

18.



На рисунке представлен график изменения числа ядер находящегося в пробирке радиоактивного изотопа с течением времени. Каков период полураспада этого изотопа?

- А) 1 месяц
- Б) 2 месяца
- В) 4 месяца
- Г) 8 месяцев

ОТВЕТЫ

| | | | | | | | | | | | | | | | | | | |
|---------------|---|---|---|---|---|---|---|---|---|----|----|----|----|----|----|----|----|----|
| Номер задания | 1 | 2 | 3 | 4 | 5 | 6 | 7 | 8 | 9 | 10 | 11 | 12 | 13 | 14 | 15 | 16 | 17 | 18 |
| Ответ | А | Г | А | Г | Б | А | А | Б | В | Б | А | В | Г | В | Г | А | А | Б |

6. Требования к условиям реализации рабочей программы дисциплины

6.1.Общесистемные требования

Электронная информационно-образовательная среда ФГБОУ ВО «КЧГУ»

<http://kchgu.ru> - адрес официального сайта университета.

<https://do.kchgu.ru> - электронная информационно-образовательная среда КЧГУ.

Электронно-библиотечные системы (электронные библиотеки)

| Учебный год | Наименование документа с указанием реквизитов | Срок действия документа |
|-----------------------|---|------------------------------------|
| 2024-2025 учебный год | Электронно-библиотечная система ООО «Знаниум». Договор № 238 эбс от 23.04.2024 г. Электронный адрес: https://znanium.com | от 23.04.2024г. до 23.04.2025г. |
| 2024-2025 учебный год | Электронно-библиотечная система «Лань». Договор № 36 от 14.03.2024 г. Электронный адрес: https://e.lanbook.com | Бессрочный |
| 2024-2024 учебный год | Электронная библиотека Юрайт Договор № 25 от 28.05.2024 г. | от 28.05.2024г. до 28.05.2025г. |
| 2024-2025 учебный год | Электронно-библиотечная система КЧГУ. Положение об ЭБ утверждено Ученым советом от 30.09.2015г. Протокол № 1. Электронный адрес: http://lib.kchgu.ru | Бессрочный |
| 2024-2025 учебный год | Национальная электронная библиотека (НЭБ). Договор №101/НЭБ/1391-п от 22. 02. 2023 г. Электронный адрес: http://rusneb.ru | Бессрочный |
| 2024-2025 учебный год | Научная электронная библиотека «ELIBRARY.RU». Лицензионное соглашение №15646 от 21.10.2016 г. Электронный адрес: http://elibrary.ru | Бессрочный |
| 2024-2025 учебный год | Электронный ресурс Polpred.comОбзор СМИ. Соглашение. Бесплатно. Электронный адрес: http://polpred.com | Бессрочный |

6.2.Материально-техническое и учебно-методическое обеспечение дисциплины

| Наименование помещений для проведения всех видов учебной деятельности, предусмотренной учебным планом, в том числе помещения для самостоятельной работы, с указанием перечня основного оборудования, учебно-наглядных пособий и используемого программного обеспечения | Адрес помещений для проведения всех видов учебной деятельности, предусмотренной учебным планом |
|--|--|
|--|--|

| | |
|---|---|
| <p>1) Лаборатория для проведения лабораторных занятий, практического и семинарского типа, курсового проектирования (выполнения курсовых работ), групповых и индивидуальных консультаций, текущего контроля и промежуточной аттестации</p> <p><i>Специализированная мебель:</i> столы ученические, стулья, доска меловая, шкаф – 2 шт.</p> <p><i>Лабораторное оборудование:</i> <i>Цифровая лаборатория по физике для учителя;</i> <i>Цифровая лаборатория по физике для ученика;</i> <i>Весы технические с разновесами;</i> <i>Комплект для лабораторного практикума по оптике;</i> <i>Комплект для лабораторного практикума по механике;</i> <i>Комплект для лабораторного практикума по молекулярной физике и термодинамике;</i> <i>Комплект для лабораторного практикума по электричеству (с генератором);</i> <i>Комплект для изучения возобновляемых источников энергии (солнечной, ветровой энергии, био-, механической и термоэлектрической энергетики);</i></p> <p><i>Технические средства обучения:</i> Персональный компьютер с подключением к сети «Интернет», телевизор, принтер.</p> <p><i>Лицензионное программное обеспечение:</i> Microsoft Windows (Лицензия № 60290784), бессрочная Microsoft Office (Лицензия № 60127446), бессрочная ABBYY Fine Reader (лицензия № FCRP-1100-1002-3937), бессрочная Calculate Linux (внесён в ЕРРП Приказом Минкомсвязи №665 от 30.11.2018-2020), бессрочная Google G Suite for Education (IC: 01i1p5u8), бессрочная Антивирус Касперского. Действует до 03.03.2025г. (Договор № 56/2023 от 25 января 2023г.)</p> | <p>369200, Карачаево-Черкесская Республика, г. Карачаевск, ул. Ленина, 29. Корпус №2, ауд. 16</p> |
| <p>2) Аудитория для самостоятельной работы обучающихся.</p> <p><i>Специализированная мебель:</i> столы ученические, стулья, доска меловая.</p> <p><i>Учебно-наглядные пособия (в электронном виде).</i></p> <p><i>Технические средства обучения:</i> ноутбуки в количестве 3 шт. с подключением к информационно-телекоммуникационной сети «Интернет» и обеспечением доступа в электронную информационно-образовательную среду университета.</p> <p><i>Лицензионное программное обеспечение:</i></p> <ul style="list-style-type: none"> – Microsoft Windows (Лицензия № 60290784), бессрочная – Microsoft Office (Лицензия № 60127446), бессрочная – ABBYY Fine Reader (лицензия № FCRP-1100-1002-3937), бессрочная – Calculate Linux (внесён в ЕРРП Приказом Минкомсвязи №665 от 30.11.2018-2020), бессрочная – Google G Suite for Education (IC: 01i1p5u8), бессрочная – Антивирус Касперского. Действует до 03.03.2025г. (Договор № 56/2023 от 25 января 2023г.) | <p>369200, Карачаево-Черкесская Республика, г. Карачаевск, ул. Ленина, 29. Учебно-лабораторный корпус, ауд. 507</p> |

| | |
|---|--|
| <p>3) Читальный зал, 80 мест, 10 компьютеров. <i>Специализированная мебель:</i> столы ученические, стулья. <i>Технические средства обучения:</i> Дисплей Брайля ALVA с программой экранного увеличителя MAGic Pro; стационарный видеоувеличитель Clear View с монитором; 2 компьютерных роллера USB&PS/2; клавиатура с накладкой (ДЦП); акустическая система свободного звукового поля Front Row to Go/\$; персональные компьютеры с возможностью подключения к сети «Интернет» и обеспечением доступа в электронную информационно-образовательную среду университета. <i>Лицензионное программное обеспечение:</i></p> <ul style="list-style-type: none"> – Microsoft Windows (Лицензия № 60290784), бессрочная – Microsoft Office (Лицензия № 60127446), бессрочная – ABBY Fine Reader (лицензия № FCRP-1100-1002-3937), бессрочная – Calculate Linux (внесён в ЕРРП Приказом Минкомсвязи №665 от 30.11.2018-2020), бессрочная – Google G Suite for Education (IC: 01i1p5u8), бессрочная – Антивирус Касперского. Действует до 03.03.2025г. (Договор № 56/2023 от 25 января 2023г.) | <p>369200, Карачаево-Черкесская Республика, г. Карачаевск, ул. Ленина, 29. Учебно-лабораторный корпус, каб. 102 а.</p> |
|---|--|

7. Особенности реализации дисциплины для инвалидов и лиц с ограниченными возможностями здоровья

Для лиц с ОВЗ и/или с инвалидностью РПД разрабатывается на основании «Положения об организации образовательного процесса для обучения инвалидов и лиц с ограниченными возможностями здоровья в федеральном государственном бюджетном образовательном учреждении высшего образования «Карачаево-Черкесский государственный университет имени У. Д. Алиева».